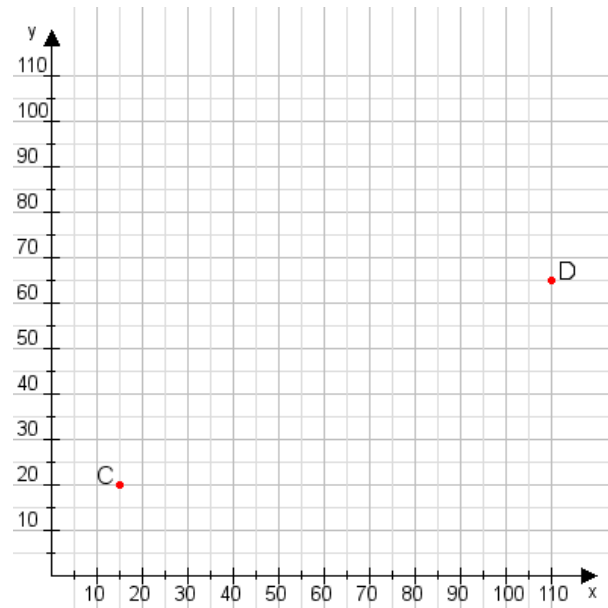


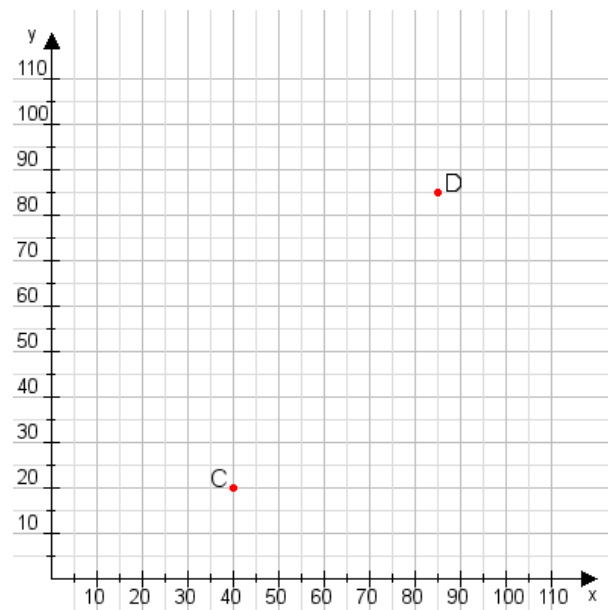
Aufgabe 1:

Zeichne den Punkt A(55|50) und den Punkt B(80|90) in das Koordinatensystem ein und verbinde beide Punkte miteinander. Verbinde die Eingetragenen Punkte C, D und ermittle deren Koordinaten.



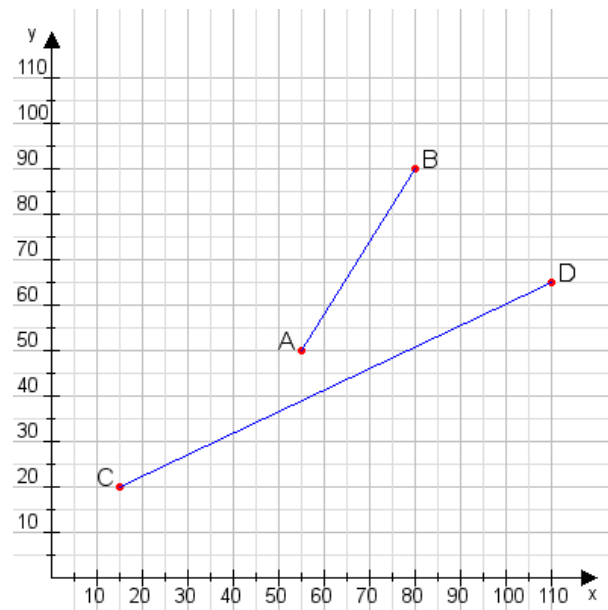
Aufgabe 2:

Zeichne den Punkt A(30|30) und den Punkt B(65|110) in das Koordinatensystem ein und verbinde beide Punkte miteinander. Verbinde die Eingetragenen Punkte C, D und ermittle deren Koordinaten.



Aufgabe 1:

C(15|20), D(110|65)



Aufgabe 2:

C(40|20), D(85|85)

