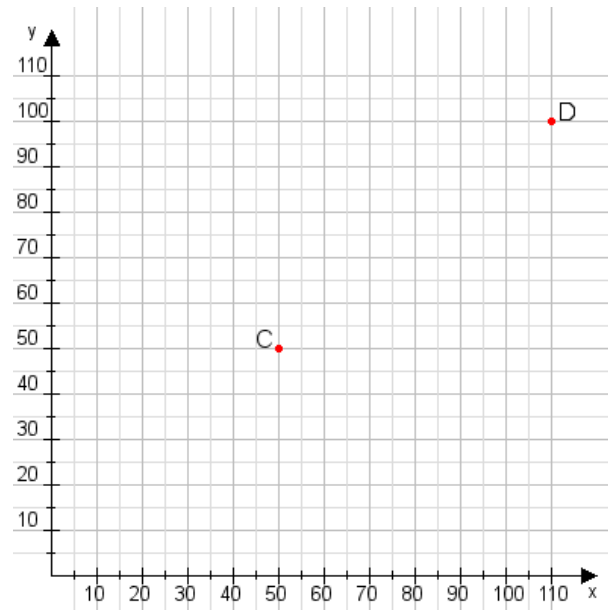


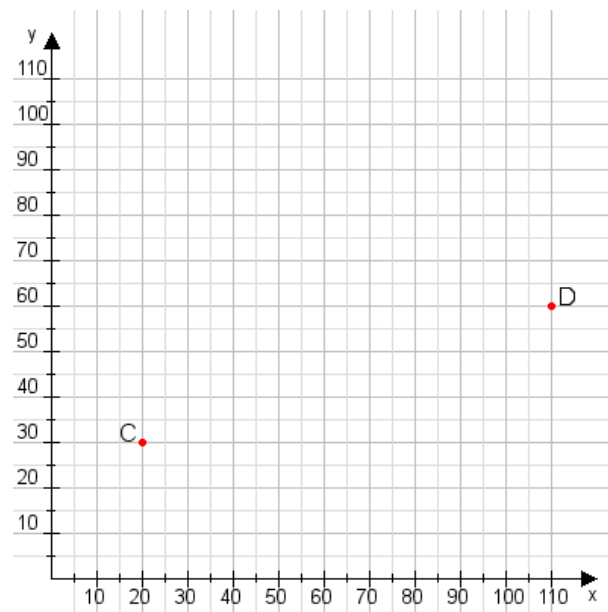
Aufgabe 1:

Zeichne den Punkt A(40|40) und den Punkt B(115|60) in das Koordinatensystem ein und verbinde beide Punkte miteinander. Verbinde die Eingetragenen Punkte C, D und ermittle deren Koordinaten.



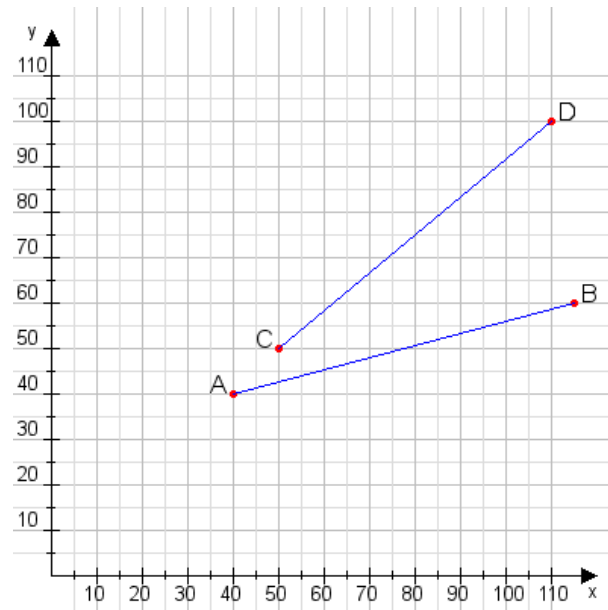
Aufgabe 2:

Zeichne den Punkt A(15|40) und den Punkt B(80|80) in das Koordinatensystem ein und verbinde beide Punkte miteinander. Verbinde die Eingetragenen Punkte C, D und ermittle deren Koordinaten.



Aufgabe 1:

C(50|50), D(110|100)



Aufgabe 2:

C(20|30), D(110|60)

