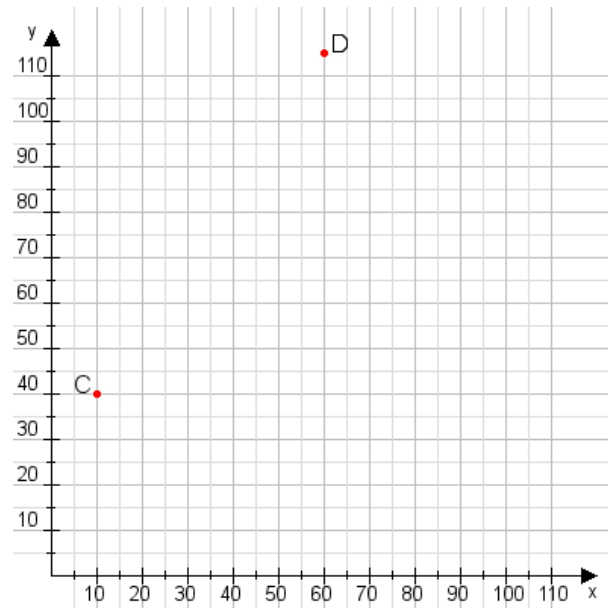


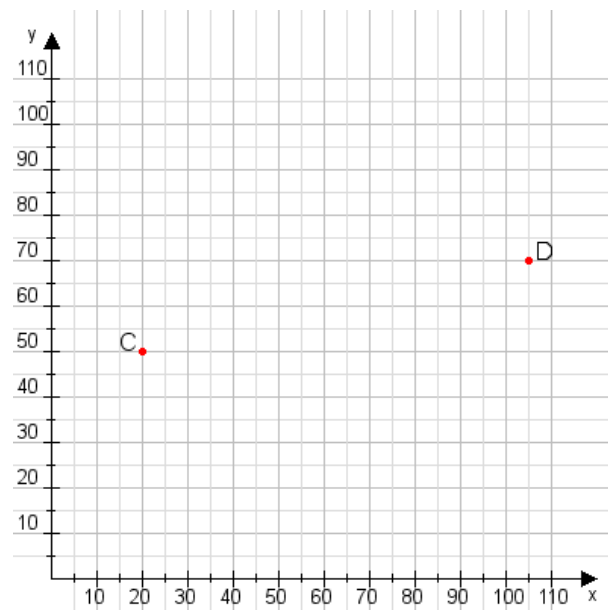
**Aufgabe 1:**

Zeichne den Punkt A(55|50) und den Punkt B(65|90) in das Koordinatensystem ein und verbinde beide Punkte miteinander. Verbinde die Eingetragenen Punkte C, D und ermittle deren Koordinaten.



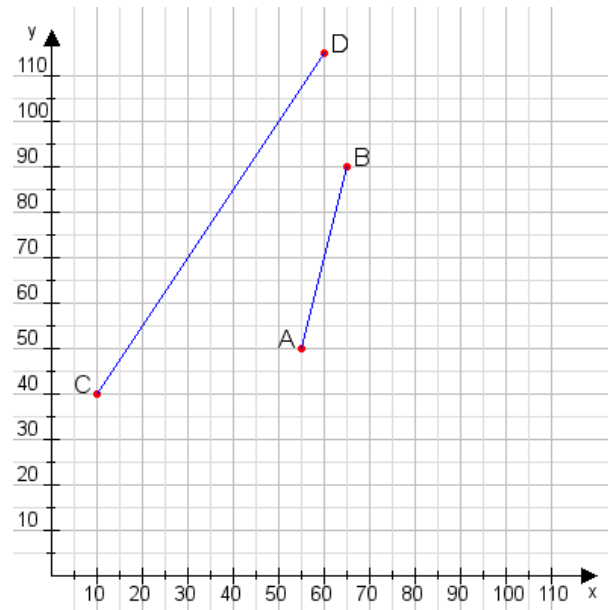
**Aufgabe 2:**

Zeichne den Punkt A(55|35) und den Punkt B(70|60) in das Koordinatensystem ein und verbinde beide Punkte miteinander. Verbinde die Eingetragenen Punkte C, D und ermittle deren Koordinaten.



**Aufgabe 1:**

C(10|40), D(60|115)



**Aufgabe 2:**

C(20|50), D(105|70)

