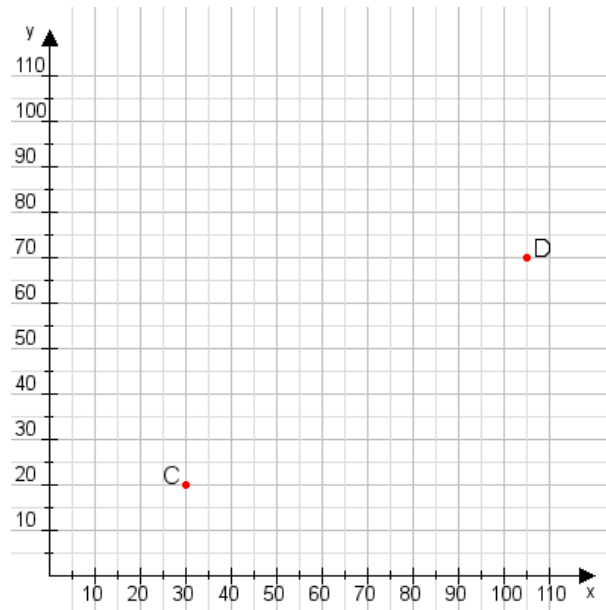


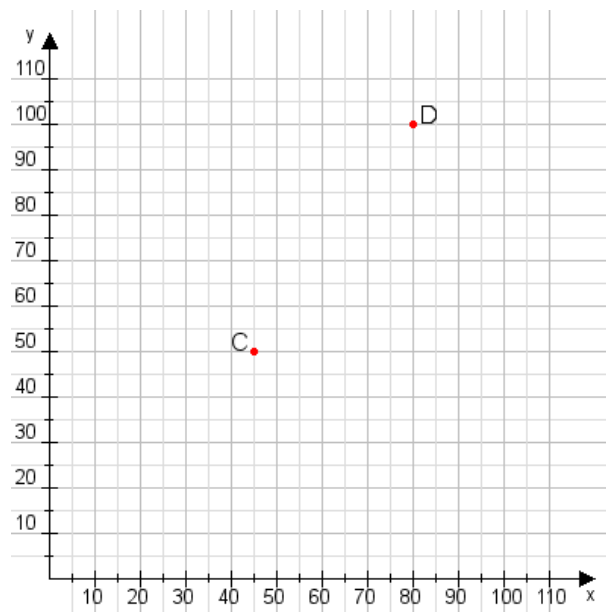
Aufgabe 1:

Zeichne den Punkt A(50|10) und den Punkt B(110|90) in das Koordinatensystem ein und verbinde beide Punkte miteinander. Verbinde die Eingetragenen Punkte C, D und ermittle deren Koordinaten.



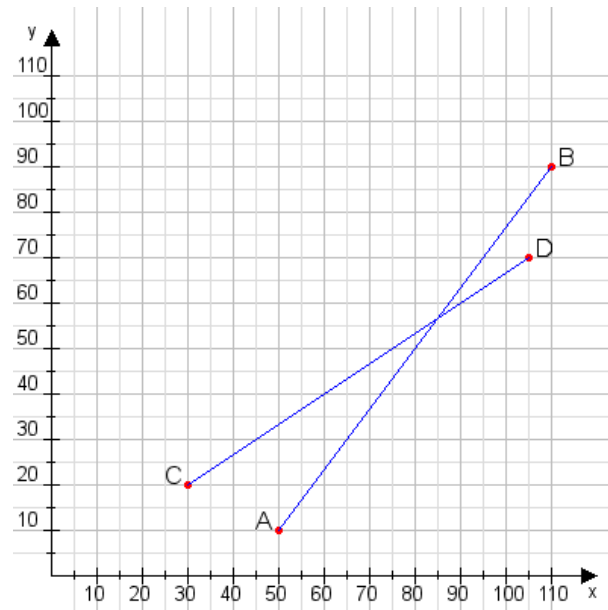
Aufgabe 2:

Zeichne den Punkt A(40|35) und den Punkt B(60|85) in das Koordinatensystem ein und verbinde beide Punkte miteinander. Verbinde die Eingetragenen Punkte C, D und ermittle deren Koordinaten.



Aufgabe 1:

C(30|20), D(105|70)



Aufgabe 2:

C(45|50), D(80|100)

