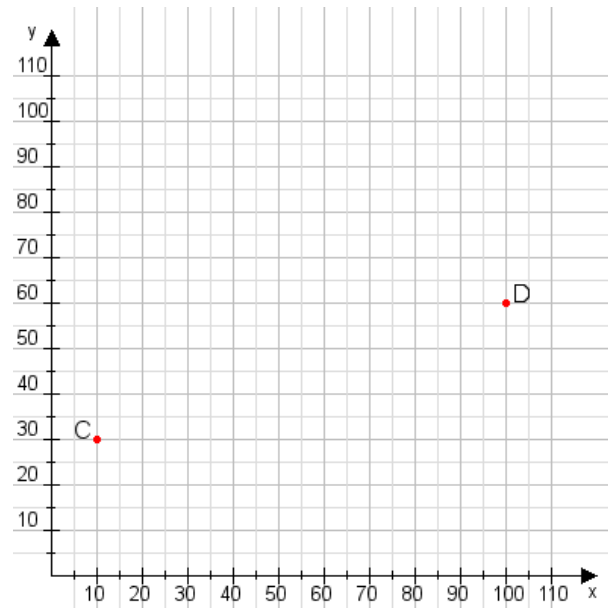


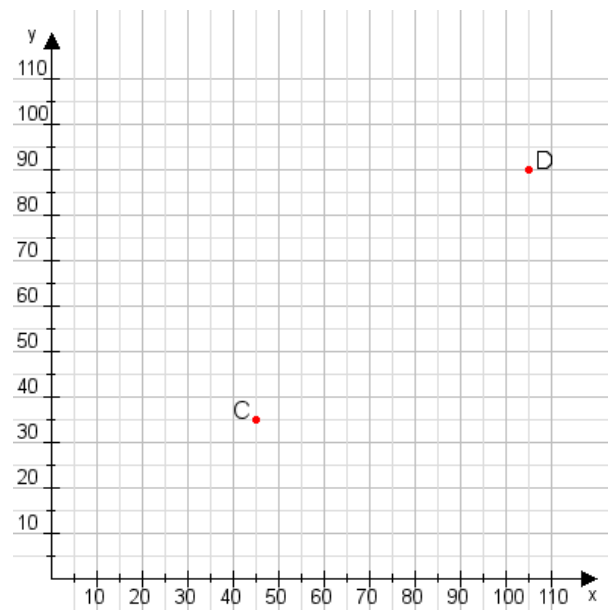
**Aufgabe 1:**

Zeichne den Punkt A(55|40) und den Punkt B(70|110) in das Koordinatensystem ein und verbinde beide Punkte miteinander. Verbinde die Eingetragenen Punkte C, D und ermittle deren Koordinaten.



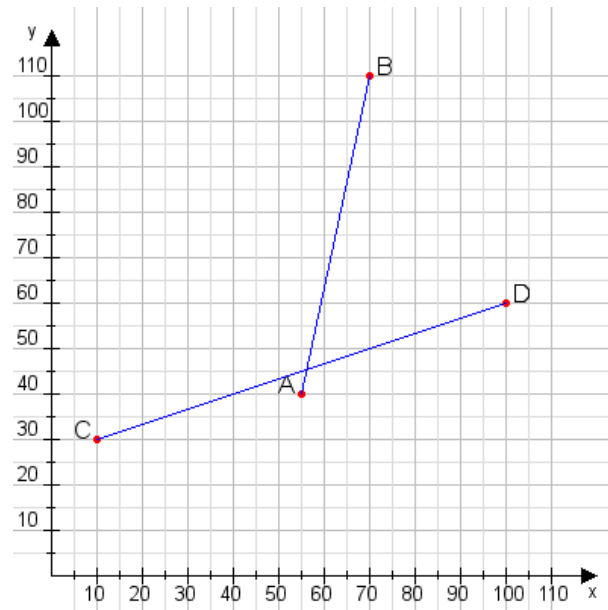
**Aufgabe 2:**

Zeichne den Punkt A(30|30) und den Punkt B(90|60) in das Koordinatensystem ein und verbinde beide Punkte miteinander. Verbinde die Eingetragenen Punkte C, D und ermittle deren Koordinaten.



**Aufgabe 1:**

**C(10|30), D(100|60)**



**Aufgabe 2:**

**C(45|35), D(105|90)**

