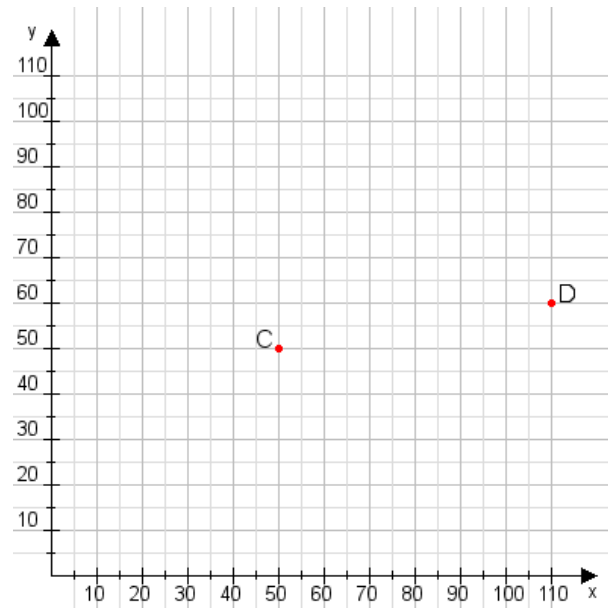


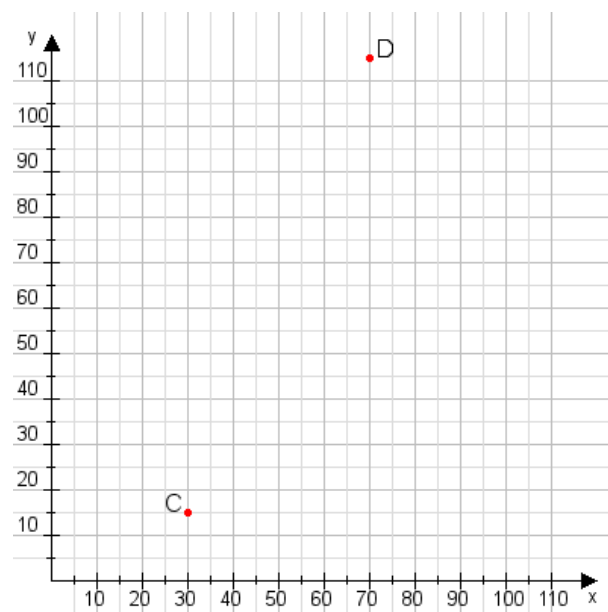
Aufgabe 1:

Zeichne den Punkt A(30|25) und den Punkt B(85|85) in das Koordinatensystem ein und verbinde beide Punkte miteinander. Verbinde die Eingetragenen Punkte C, D und ermittle deren Koordinaten.



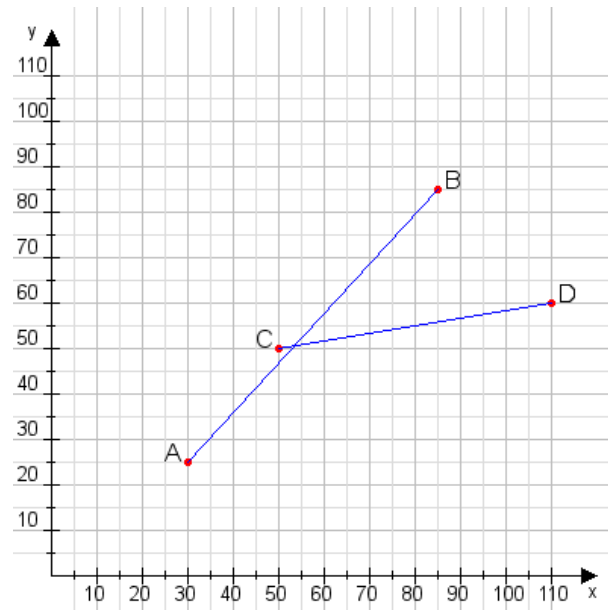
Aufgabe 2:

Zeichne den Punkt A(20|40) und den Punkt B(80|105) in das Koordinatensystem ein und verbinde beide Punkte miteinander. Verbinde die Eingetragenen Punkte C, D und ermittle deren Koordinaten.



Aufgabe 1:

C(50|50), D(110|60)



Aufgabe 2:

C(30|15), D(70|115)

