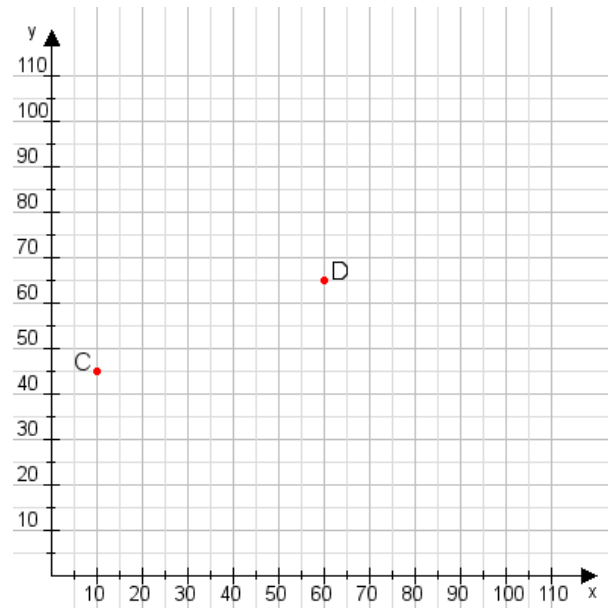


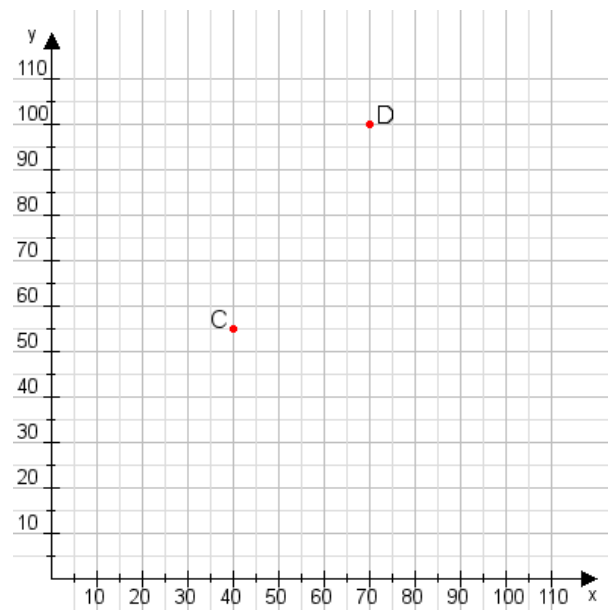
Aufgabe 1:

Zeichne den Punkt A(30|20) und den Punkt B(110|85) in das Koordinatensystem ein und verbinde beide Punkte miteinander. Verbinde die Eingetragenen Punkte C, D und ermittle deren Koordinaten.



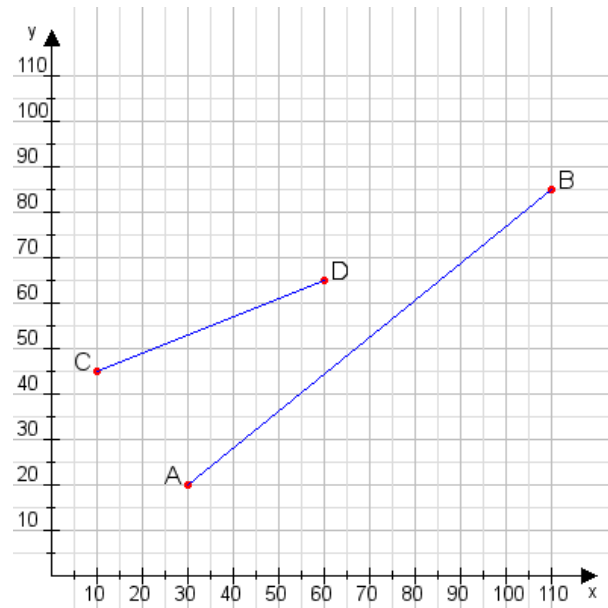
Aufgabe 2:

Zeichne den Punkt A(20|40) und den Punkt B(80|60) in das Koordinatensystem ein und verbinde beide Punkte miteinander. Verbinde die Eingetragenen Punkte C, D und ermittle deren Koordinaten.



Aufgabe 1:

C(10|45), D(60|65)



Aufgabe 2:

C(40|55), D(70|100)

