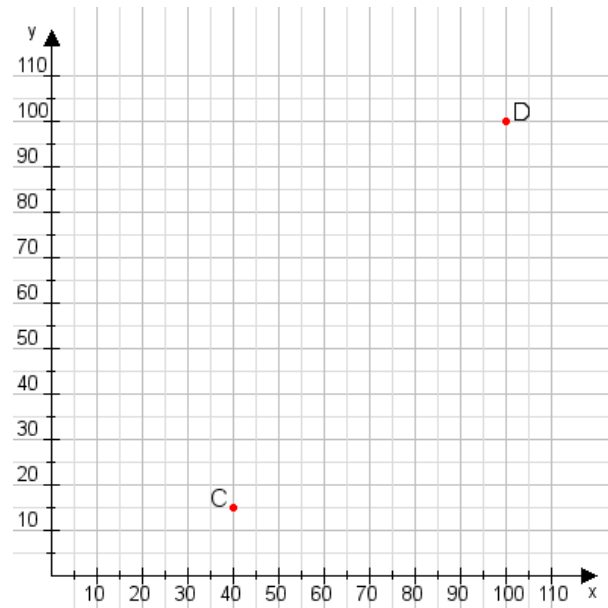


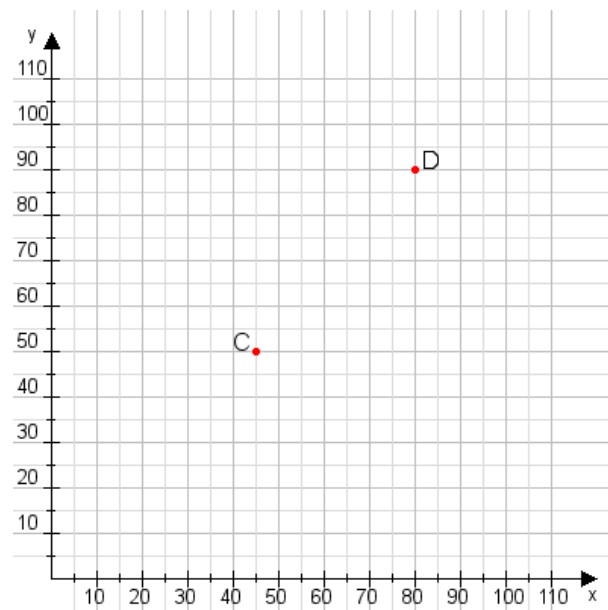
**Aufgabe 1:**

Zeichne den Punkt A(25|10) und den Punkt B(85|100) in das Koordinatensystem ein und verbinde beide Punkte miteinander. Verbinde die Eingetragenen Punkte C, D und ermittle deren Koordinaten.



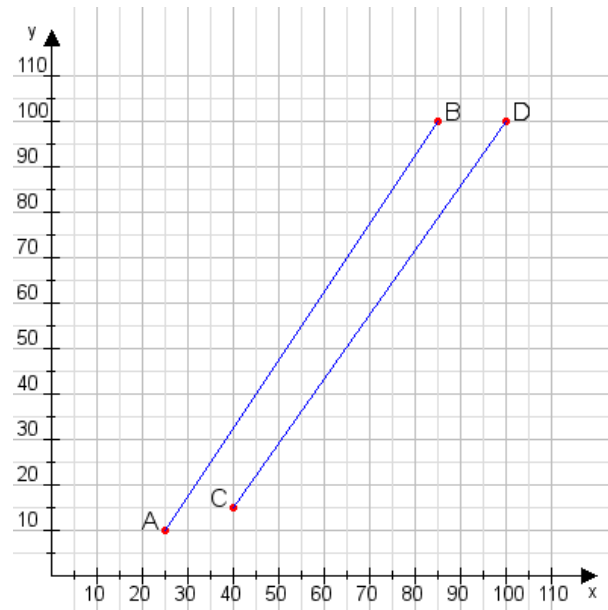
**Aufgabe 2:**

Zeichne den Punkt A(10|60) und den Punkt B(110|100) in das Koordinatensystem ein und verbinde beide Punkte miteinander. Verbinde die Eingetragenen Punkte C, D und ermittle deren Koordinaten.



**Aufgabe 1:**

C(40|15), D(100|100)



**Aufgabe 2:**

C(45|50), D(80|90)

