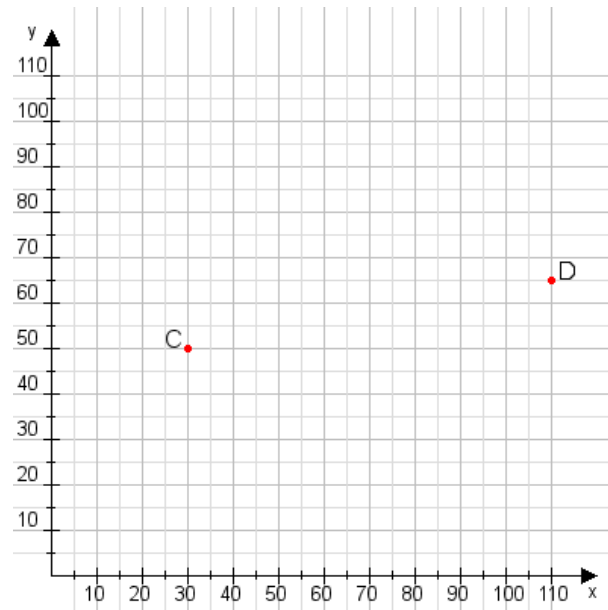


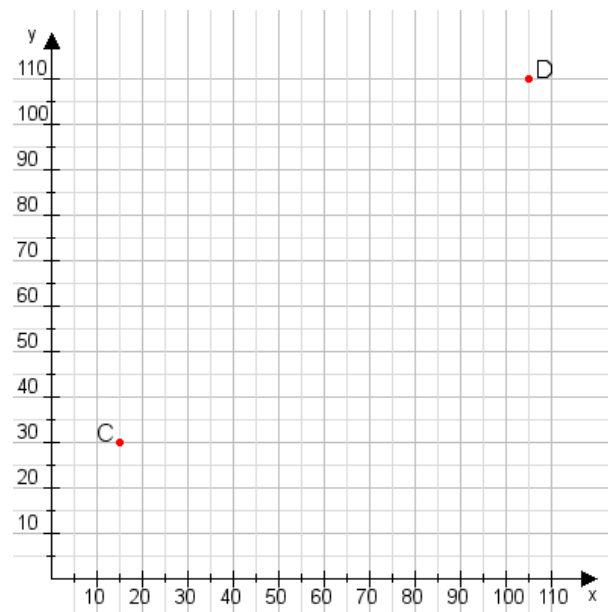
Aufgabe 1:

Zeichne den Punkt A(30|30) und den Punkt B(70|120) in das Koordinatensystem ein und verbinde beide Punkte miteinander. Verbinde die Eingetragenen Punkte C, D und ermittle deren Koordinaten.



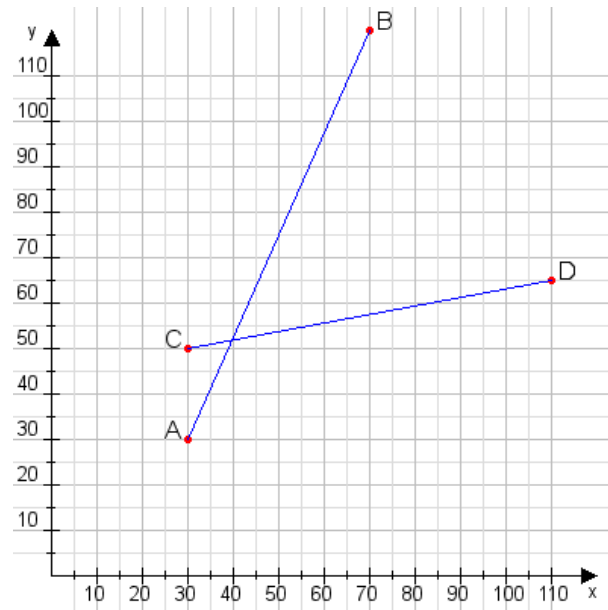
Aufgabe 2:

Zeichne den Punkt A(20|35) und den Punkt B(60|100) in das Koordinatensystem ein und verbinde beide Punkte miteinander. Verbinde die Eingetragenen Punkte C, D und ermittle deren Koordinaten.



Aufgabe 1:

C(30|50), D(110|65)



Aufgabe 2:

C(15|30), D(105|110)

