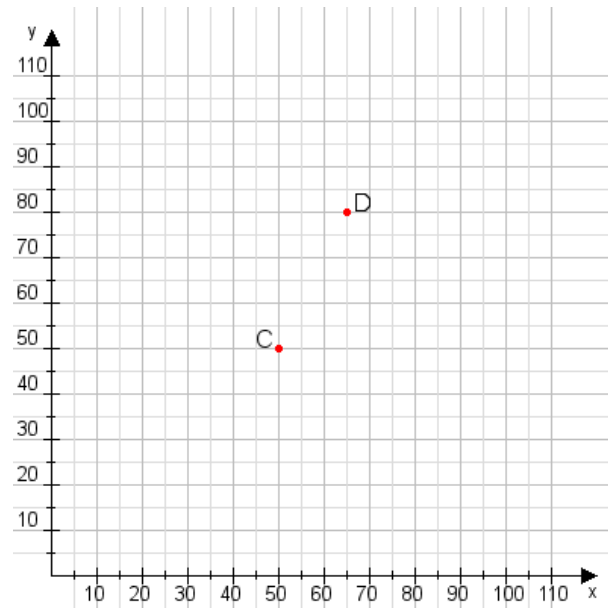


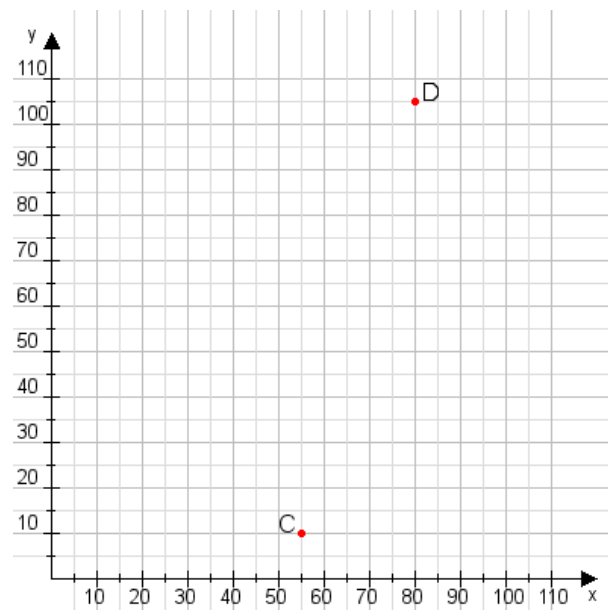
**Aufgabe 1:**

Zeichne den Punkt A(35|50) und den Punkt B(85|110) in das Koordinatensystem ein und verbinde beide Punkte miteinander. Verbinde die Eingetragenen Punkte C, D und ermittle deren Koordinaten.



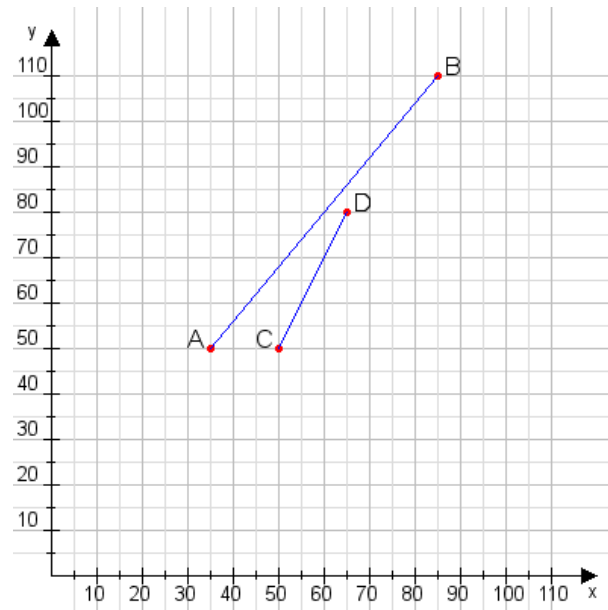
**Aufgabe 2:**

Zeichne den Punkt A(25|50) und den Punkt B(90|80) in das Koordinatensystem ein und verbinde beide Punkte miteinander. Verbinde die Eingetragenen Punkte C, D und ermittle deren Koordinaten.



**Aufgabe 1:**

C(50|50), D(65|80)



**Aufgabe 2:**

C(55|10), D(80|105)

