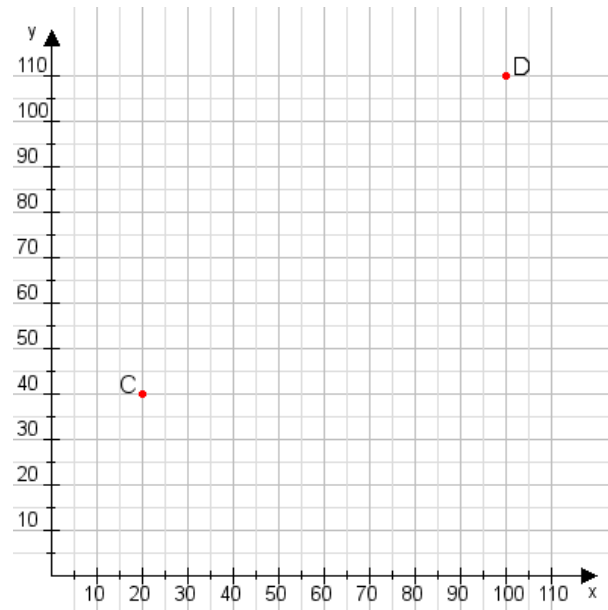


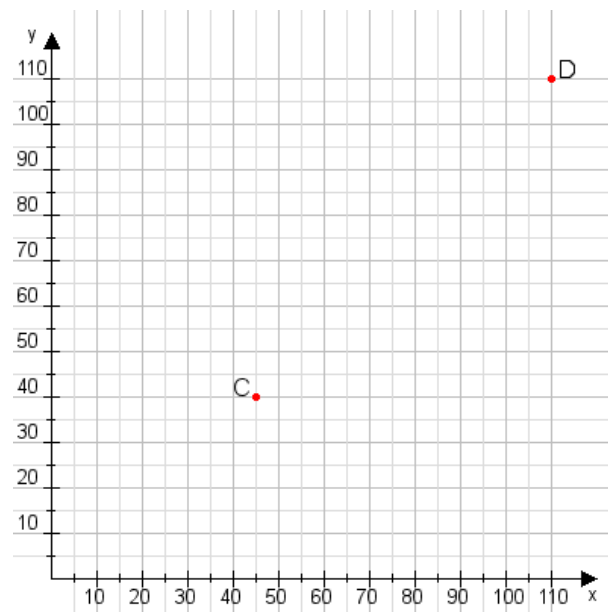
Aufgabe 1:

Zeichne den Punkt A(50|50) und den Punkt B(80|85) in das Koordinatensystem ein und verbinde beide Punkte miteinander. Verbinde die Eingetragenen Punkte C, D und ermittle deren Koordinaten.



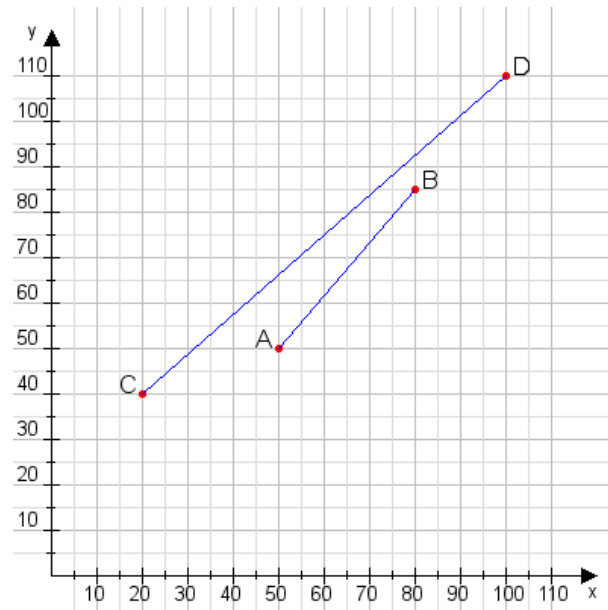
Aufgabe 2:

Zeichne den Punkt A(20|20) und den Punkt B(60|90) in das Koordinatensystem ein und verbinde beide Punkte miteinander. Verbinde die Eingetragenen Punkte C, D und ermittle deren Koordinaten.



Aufgabe 1:

C(20|40), D(100|110)



Aufgabe 2:

C(45|40), D(110|110)

