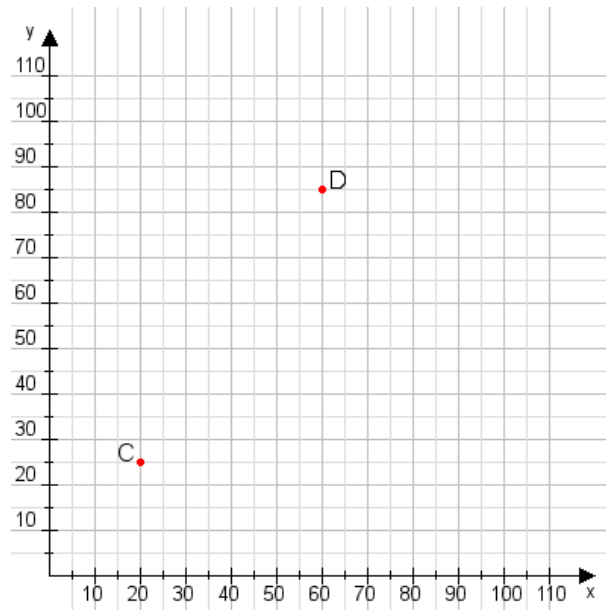


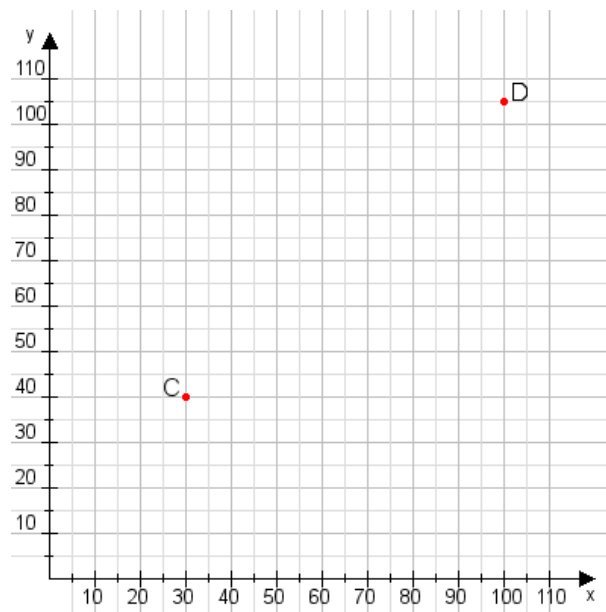
**Aufgabe 1:**

Zeichne den Punkt A(20|55) und den Punkt B(70|110) in das Koordinatensystem ein und verbinde beide Punkte miteinander. Verbinde die Eingetragenen Punkte C, D und ermittle deren Koordinaten.



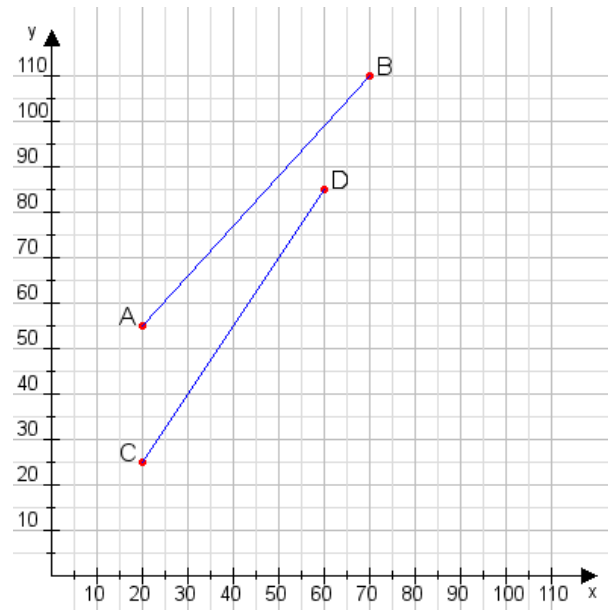
**Aufgabe 2:**

Zeichne den Punkt A(50|15) und den Punkt B(65|100) in das Koordinatensystem ein und verbinde beide Punkte miteinander. Verbinde die Eingetragenen Punkte C, D und ermittle deren Koordinaten.



**Aufgabe 1:**

C(20|25), D(60|85)



**Aufgabe 2:**

C(30|40), D(100|105)

