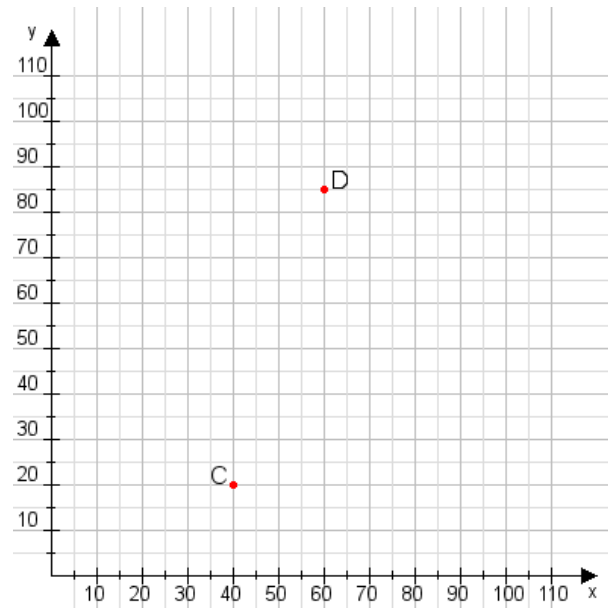


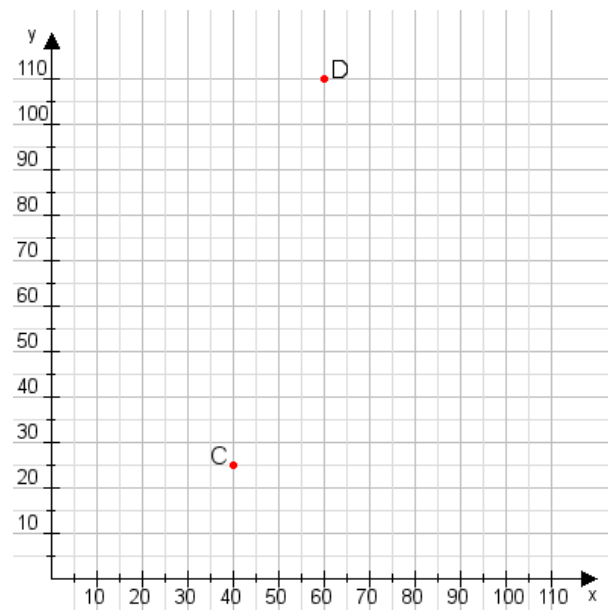
**Aufgabe 1:**

Zeichne den Punkt A(20|50) und den Punkt B(110|70) in das Koordinatensystem ein und verbinde beide Punkte miteinander. Verbinde die Eingetragenen Punkte C, D und ermittle deren Koordinaten.



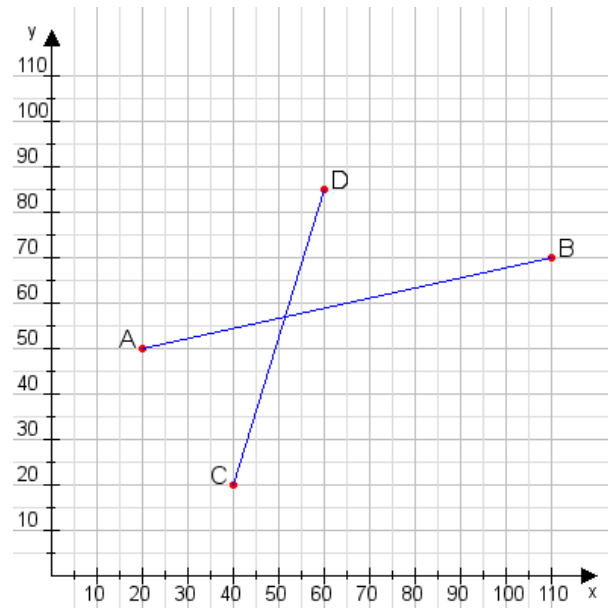
**Aufgabe 2:**

Zeichne den Punkt A(10|50) und den Punkt B(85|105) in das Koordinatensystem ein und verbinde beide Punkte miteinander. Verbinde die Eingetragenen Punkte C, D und ermittle deren Koordinaten.



**Aufgabe 1:**

**C(40|20), D(60|85)**



**Aufgabe 2:**

**C(40|25), D(60|110)**

