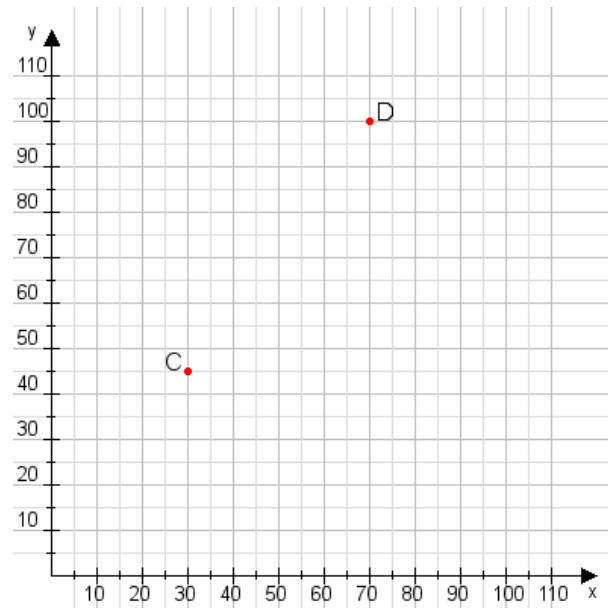


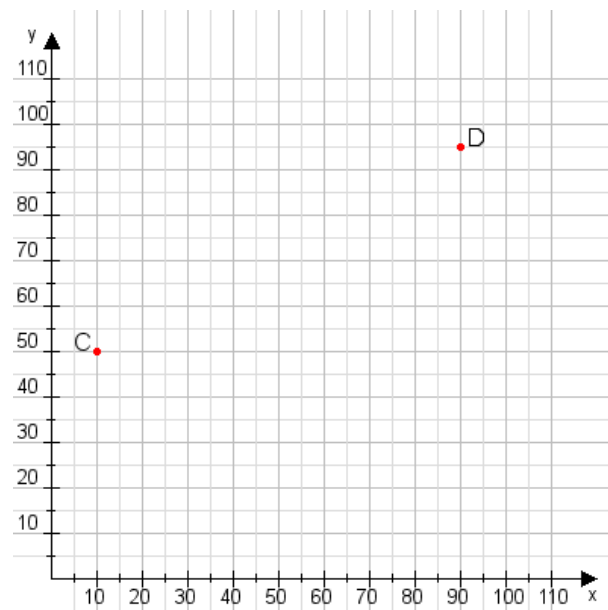
Aufgabe 1:

Zeichne den Punkt A(50|50) und den Punkt B(115|105) in das Koordinatensystem ein und verbinde beide Punkte miteinander. Verbinde die Eingetragenen Punkte C, D und ermittle deren Koordinaten.



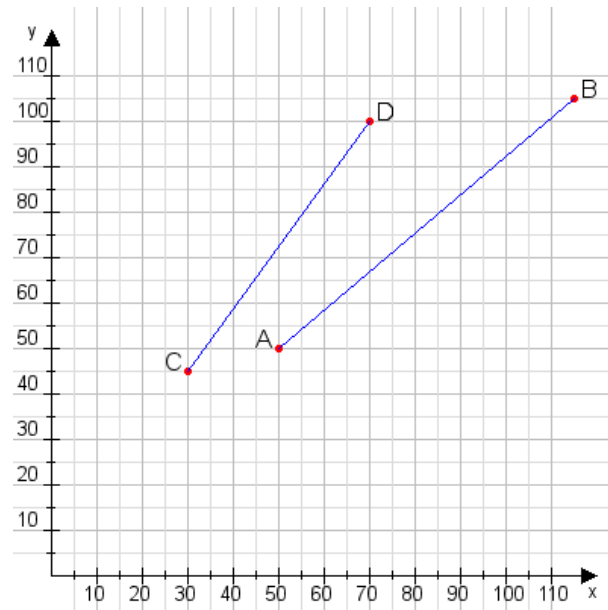
Aufgabe 2:

Zeichne den Punkt A(45|40) und den Punkt B(75|70) in das Koordinatensystem ein und verbinde beide Punkte miteinander. Verbinde die Eingetragenen Punkte C, D und ermittle deren Koordinaten.



Aufgabe 1:

C(30|45), D(70|100)



Aufgabe 2:

C(10|50), D(90|95)

