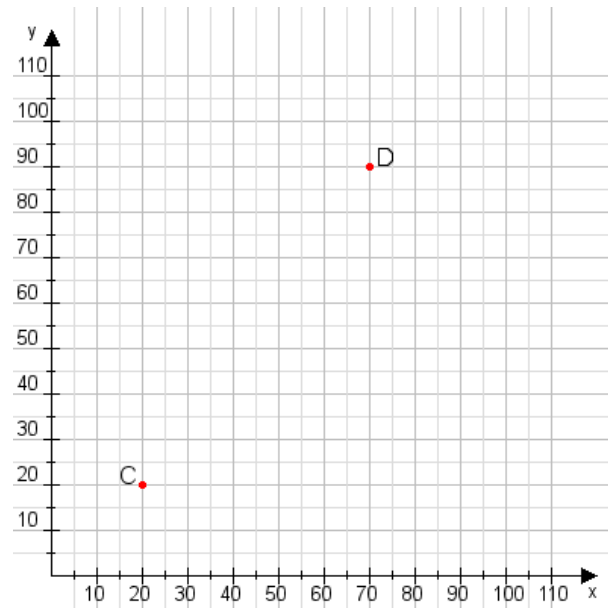


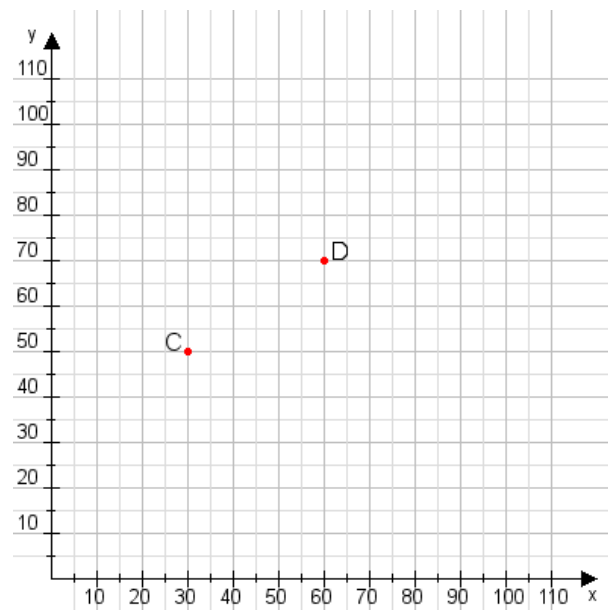
Aufgabe 1:

Zeichne den Punkt A(10|45) und den Punkt B(110|100) in das Koordinatensystem ein und verbinde beide Punkte miteinander. Verbinde die Eingetragenen Punkte C, D und ermittle deren Koordinaten.



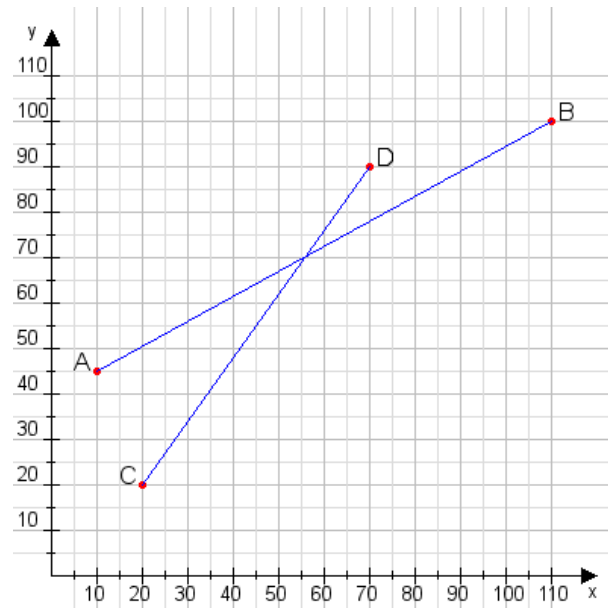
Aufgabe 2:

Zeichne den Punkt A(10|35) und den Punkt B(80|70) in das Koordinatensystem ein und verbinde beide Punkte miteinander. Verbinde die Eingetragenen Punkte C, D und ermittle deren Koordinaten.



Aufgabe 1:

C(20|20), D(70|90)



Aufgabe 2:

C(30|50), D(60|70)

