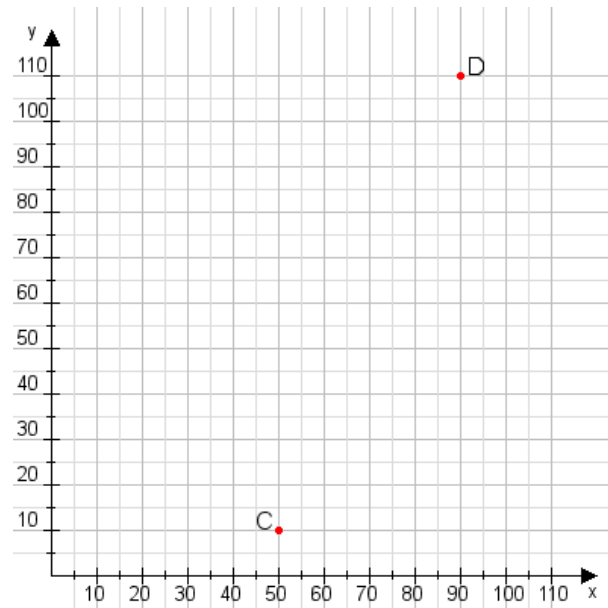


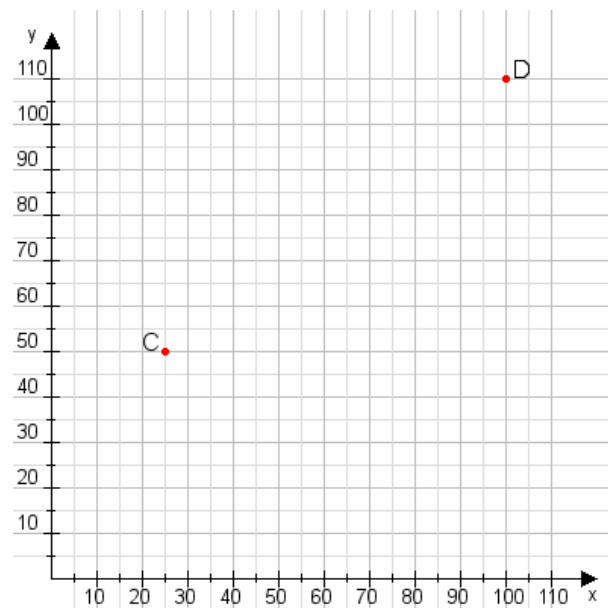
Aufgabe 1:

Zeichne den Punkt A(10|20) und den Punkt B(105|100) in das Koordinatensystem ein und verbinde beide Punkte miteinander. Verbinde die Eingetragenen Punkte C, D und ermittle deren Koordinaten.



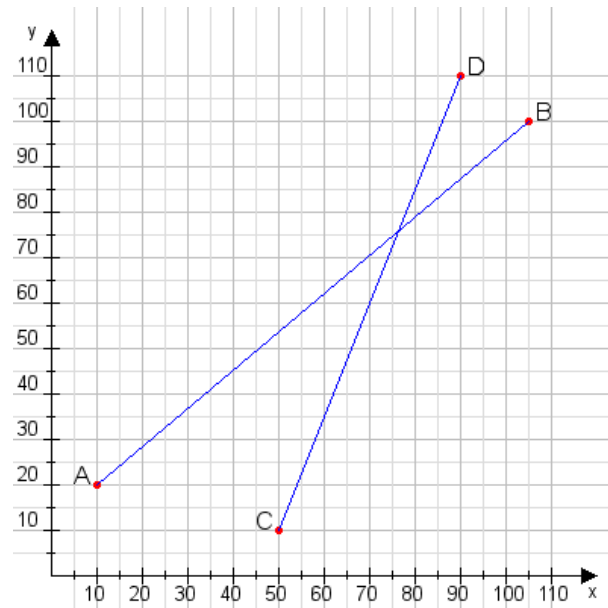
Aufgabe 2:

Zeichne den Punkt A(45|10) und den Punkt B(105|110) in das Koordinatensystem ein und verbinde beide Punkte miteinander. Verbinde die Eingetragenen Punkte C, D und ermittle deren Koordinaten.



Aufgabe 1:

C(50|10), D(90|110)



Aufgabe 2:

C(25|50), D(100|110)

