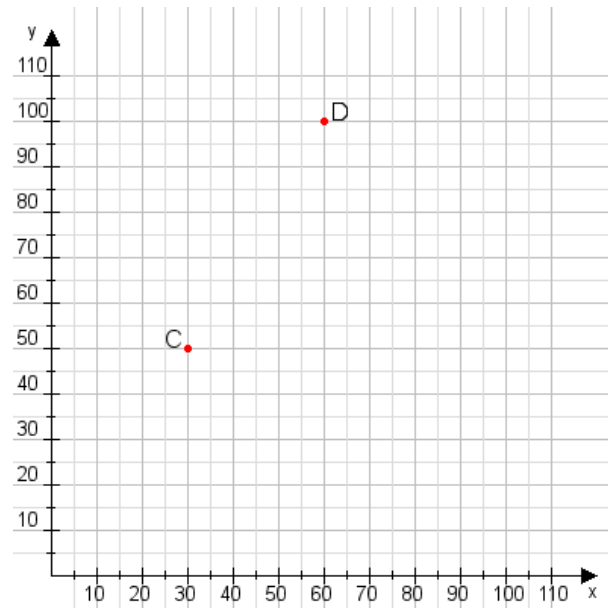


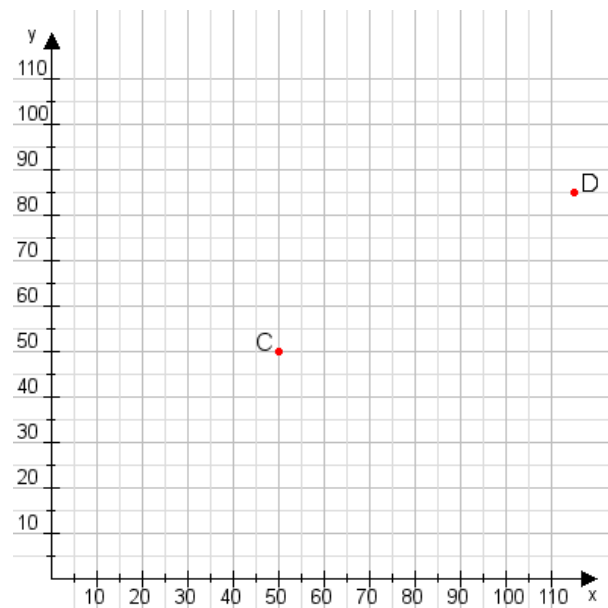
**Aufgabe 1:**

Zeichne den Punkt A(20|45) und den Punkt B(70|100) in das Koordinatensystem ein und verbinde beide Punkte miteinander. Verbinde die Eingetragenen Punkte C, D und ermittle deren Koordinaten.



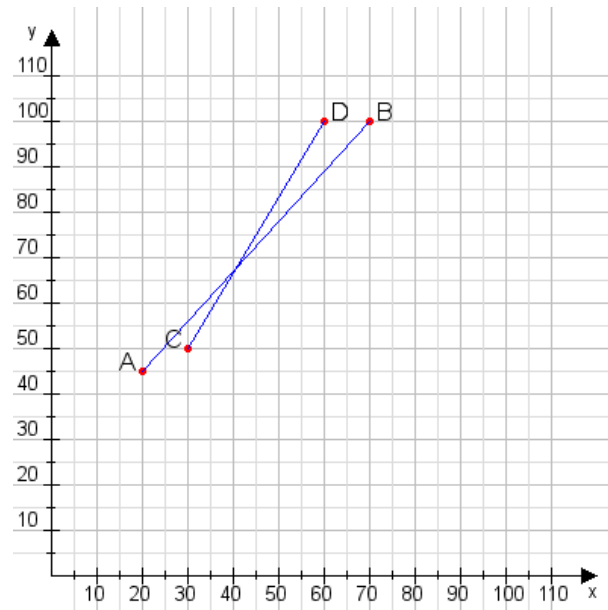
**Aufgabe 2:**

Zeichne den Punkt A(10|30) und den Punkt B(75|110) in das Koordinatensystem ein und verbinde beide Punkte miteinander. Verbinde die Eingetragenen Punkte C, D und ermittle deren Koordinaten.



**Aufgabe 1:**

**C(30|50), D(60|100)**



**Aufgabe 2:**

**C(50|50), D(115|85)**

