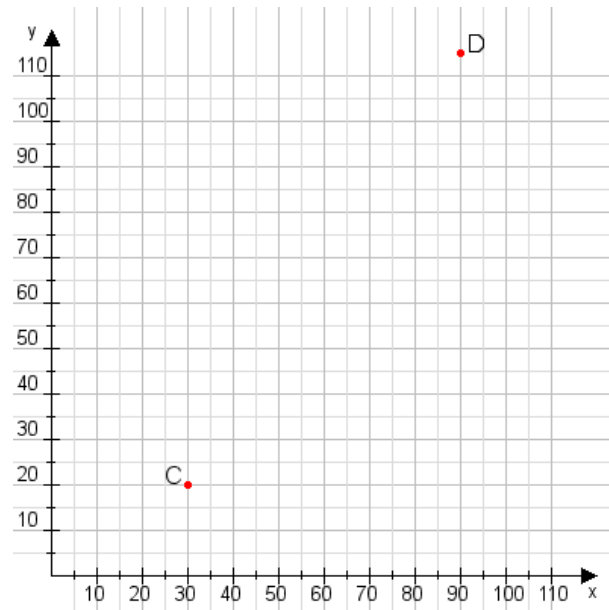


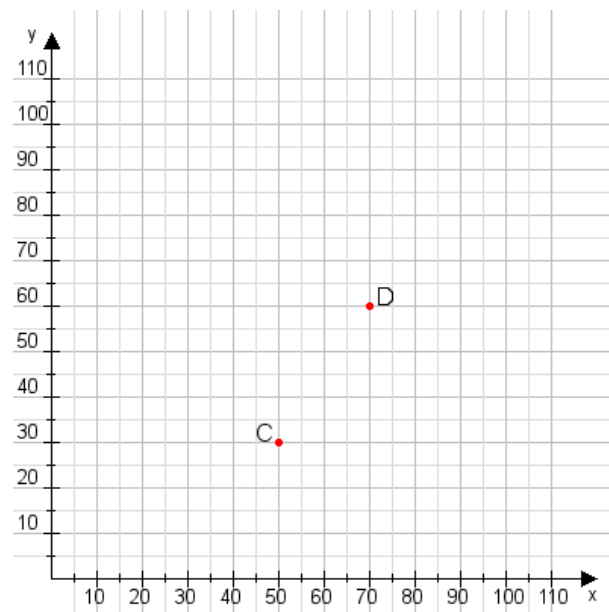
Aufgabe 1:

Zeichne den Punkt A(40|40) und den Punkt B(105|75) in das Koordinatensystem ein und verbinde beide Punkte miteinander. Verbinde die Eingetragenen Punkte C, D und ermittle deren Koordinaten.



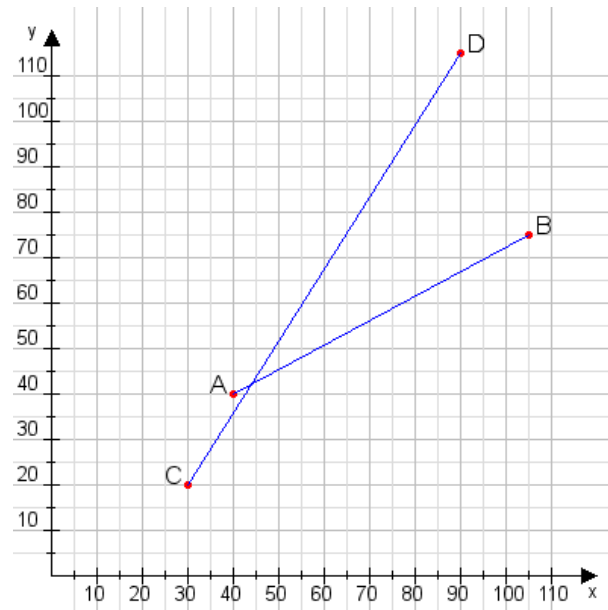
Aufgabe 2:

Zeichne den Punkt A(50|20) und den Punkt B(105|90) in das Koordinatensystem ein und verbinde beide Punkte miteinander. Verbinde die Eingetragenen Punkte C, D und ermittle deren Koordinaten.



Aufgabe 1:

C(30|20), D(90|115)



Aufgabe 2:

C(50|30), D(70|60)

