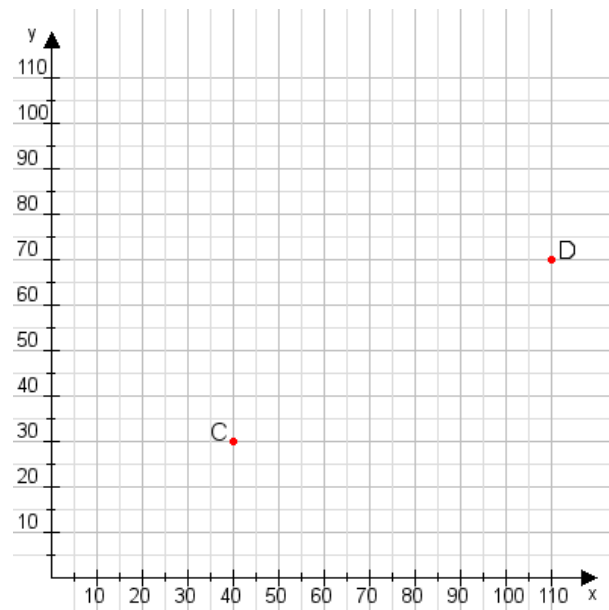


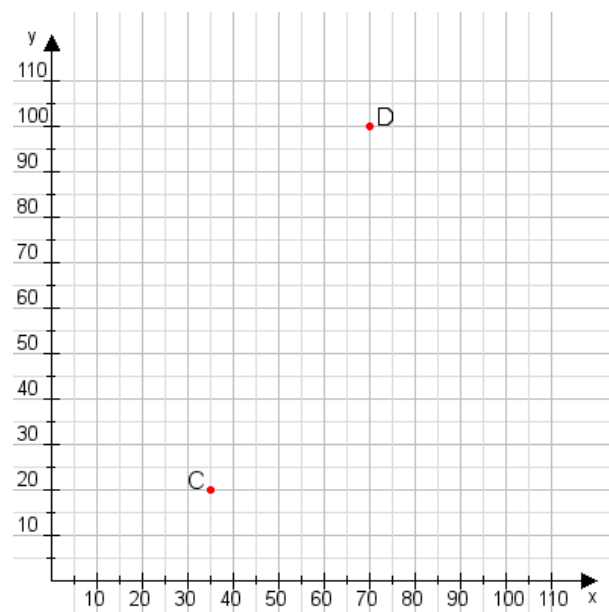
Aufgabe 1:

Zeichne den Punkt A(25|50) und den Punkt B(80|110) in das Koordinatensystem ein und verbinde beide Punkte miteinander. Verbinde die Eingetragenen Punkte C, D und ermittle deren Koordinaten.



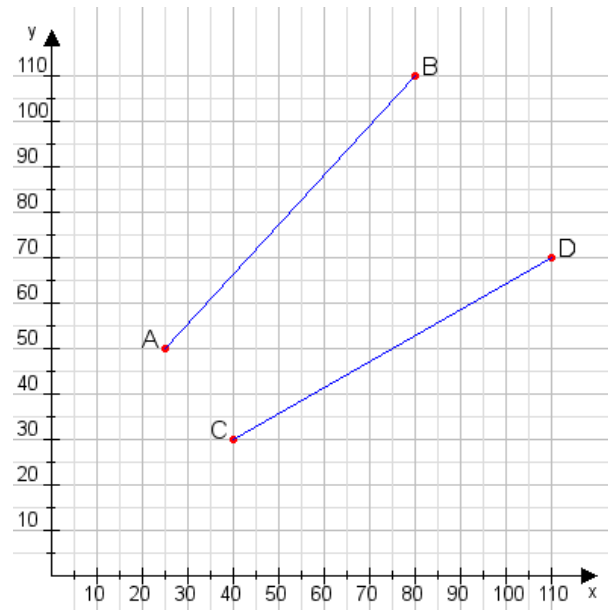
Aufgabe 2:

Zeichne den Punkt A(25|30) und den Punkt B(60|75) in das Koordinatensystem ein und verbinde beide Punkte miteinander. Verbinde die Eingetragenen Punkte C, D und ermittle deren Koordinaten.



Aufgabe 1:

C(40|30), D(110|70)



Aufgabe 2:

C(35|20), D(70|100)

