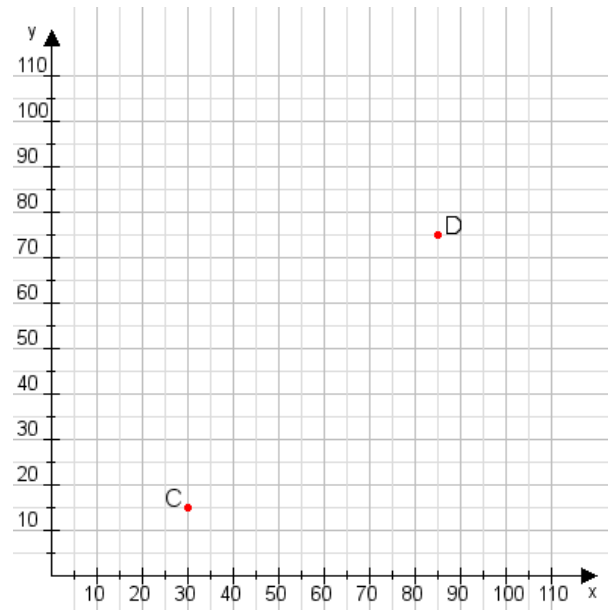


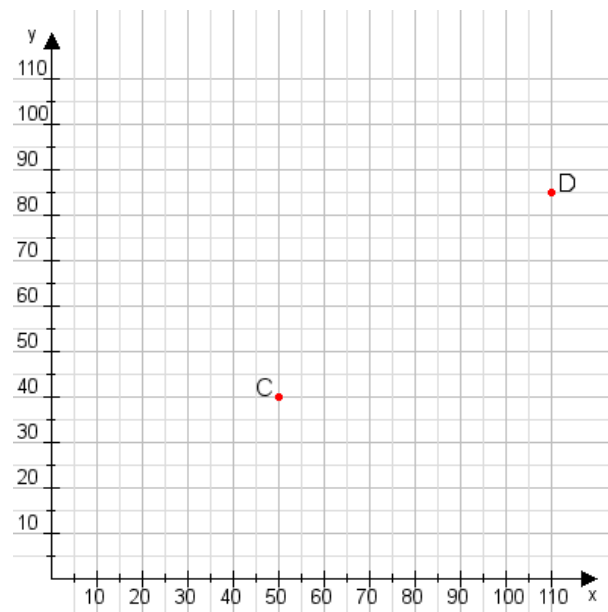
**Aufgabe 1:**

Zeichne den Punkt A(40|10) und den Punkt B(60|60) in das Koordinatensystem ein und verbinde beide Punkte miteinander. Verbinde die Eingetragenen Punkte C, D und ermittle deren Koordinaten.



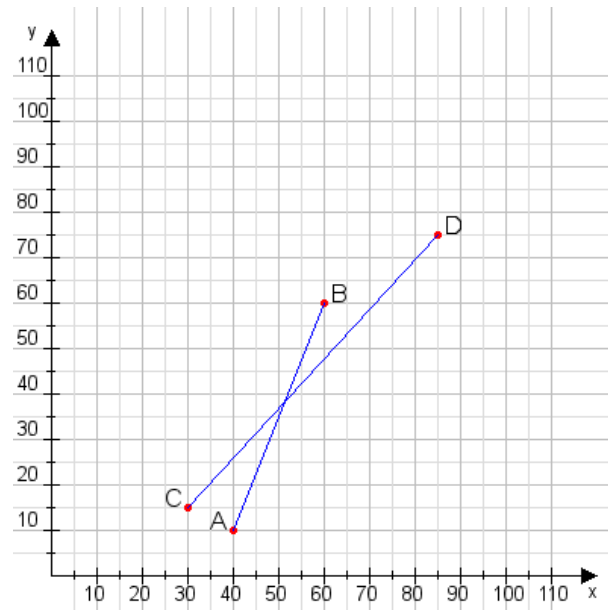
**Aufgabe 2:**

Zeichne den Punkt A(20|50) und den Punkt B(80|70) in das Koordinatensystem ein und verbinde beide Punkte miteinander. Verbinde die Eingetragenen Punkte C, D und ermittle deren Koordinaten.



**Aufgabe 1:**

C(30|15), D(85|75)



**Aufgabe 2:**

C(50|40), D(110|85)

