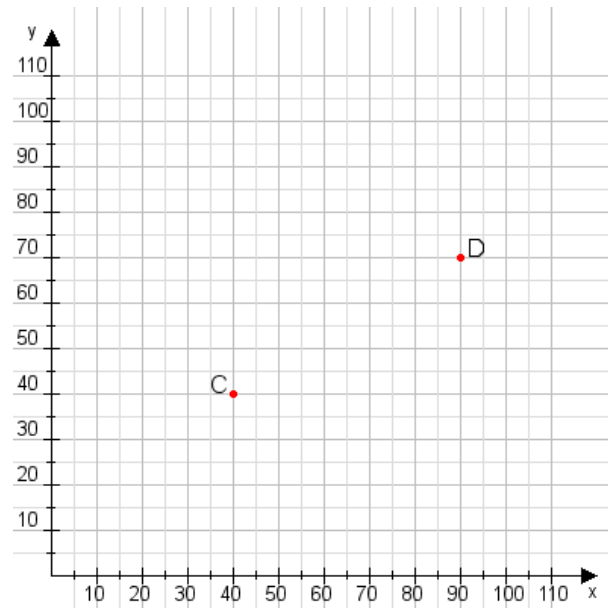


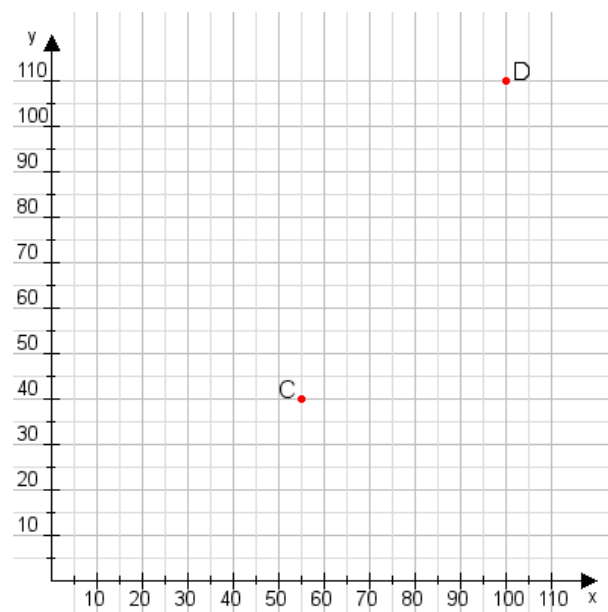
Aufgabe 1:

Zeichne den Punkt A(25|10) und den Punkt B(110|70) in das Koordinatensystem ein und verbinde beide Punkte miteinander. Verbinde die Eingetragenen Punkte C, D und ermittle deren Koordinaten.



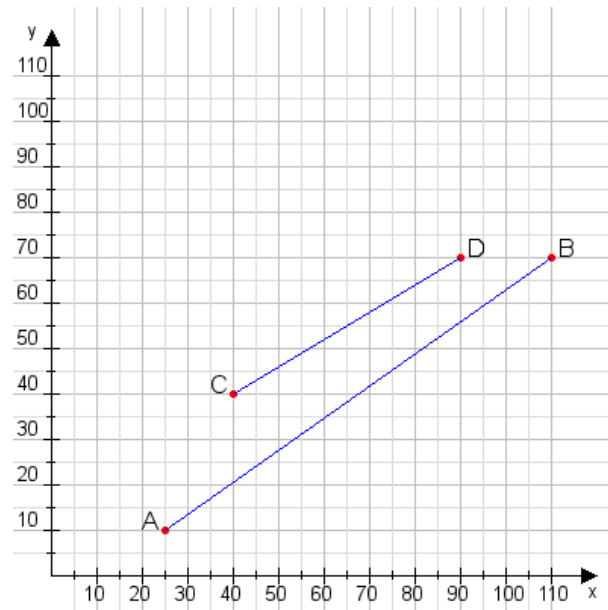
Aufgabe 2:

Zeichne den Punkt A(20|20) und den Punkt B(70|90) in das Koordinatensystem ein und verbinde beide Punkte miteinander. Verbinde die Eingetragenen Punkte C, D und ermittle deren Koordinaten.



Aufgabe 1:

C(40|40), D(90|70)



Aufgabe 2:

C(55|40), D(100|110)

