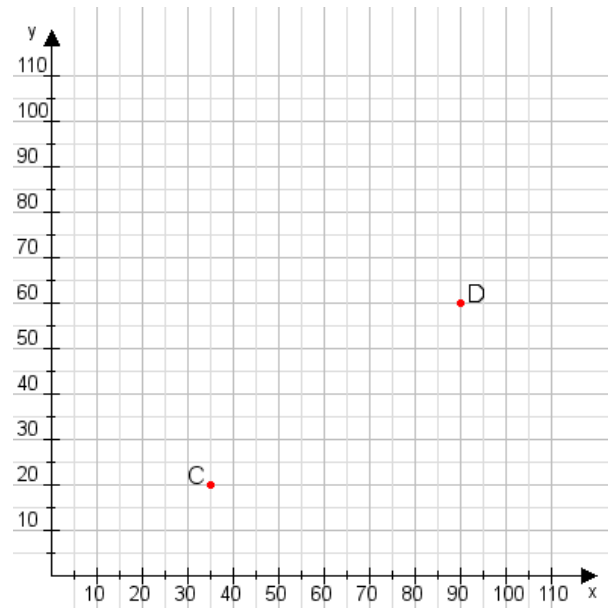


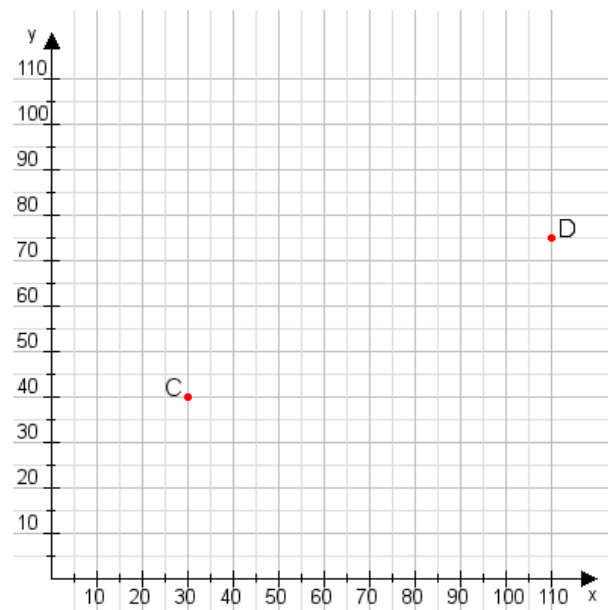
**Aufgabe 1:**

Zeichne den Punkt A(45|10) und den Punkt B(80|95) in das Koordinatensystem ein und verbinde beide Punkte miteinander. Verbinde die Eingetragenen Punkte C, D und ermittle deren Koordinaten.



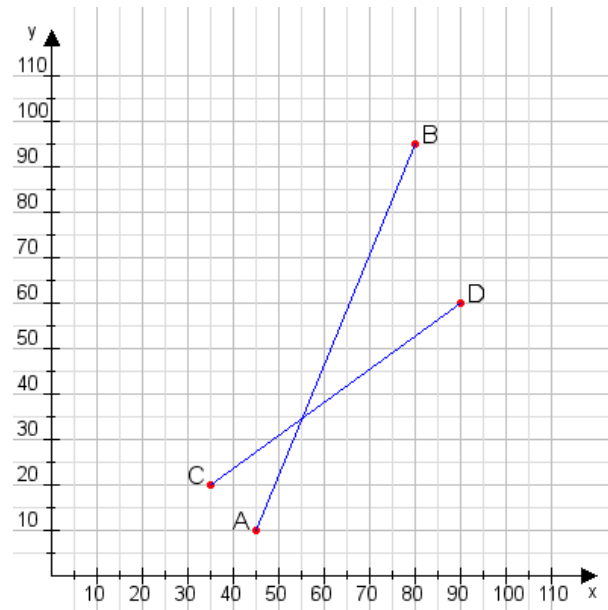
**Aufgabe 2:**

Zeichne den Punkt A(35|20) und den Punkt B(60|95) in das Koordinatensystem ein und verbinde beide Punkte miteinander. Verbinde die Eingetragenen Punkte C, D und ermittle deren Koordinaten.



**Aufgabe 1:**

C(35|20), D(90|60)



**Aufgabe 2:**

C(30|40), D(110|75)

