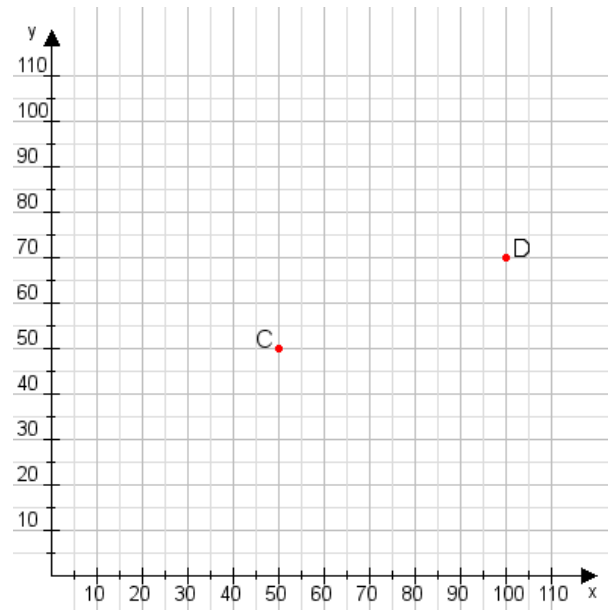


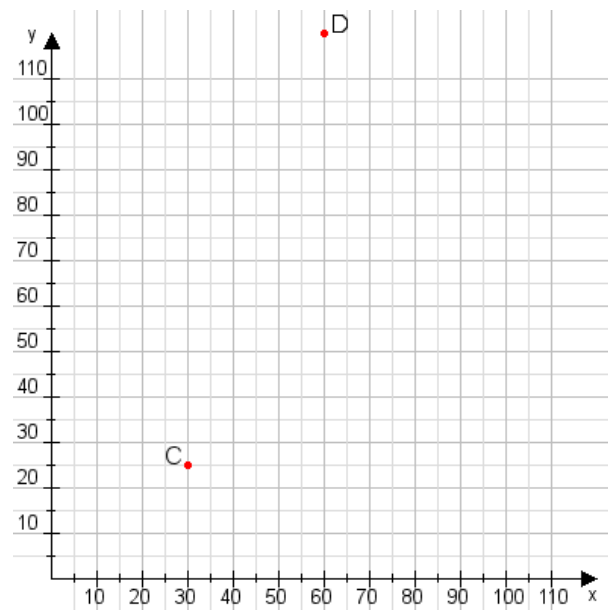
Aufgabe 1:

Zeichne den Punkt A(10|25) und den Punkt B(90|100) in das Koordinatensystem ein und verbinde beide Punkte miteinander. Verbinde die Eingetragenen Punkte C, D und ermittle deren Koordinaten.



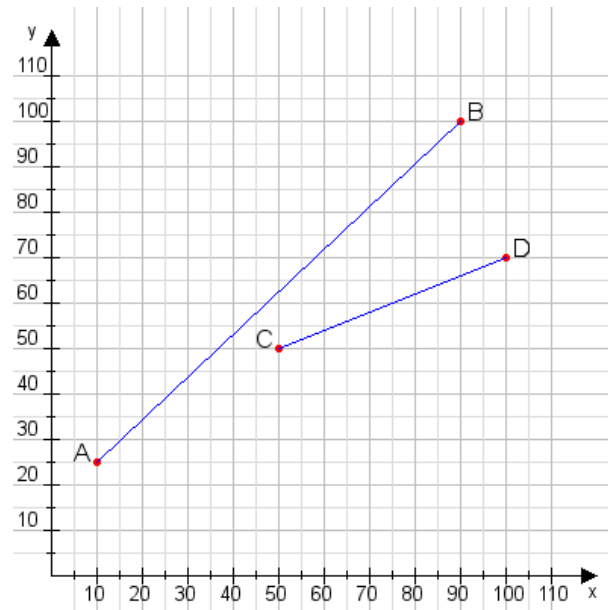
Aufgabe 2:

Zeichne den Punkt A(10|10) und den Punkt B(80|100) in das Koordinatensystem ein und verbinde beide Punkte miteinander. Verbinde die Eingetragenen Punkte C, D und ermittle deren Koordinaten.



Aufgabe 1:

C(50|50), D(100|70)



Aufgabe 2:

C(30|25), D(60|120)

