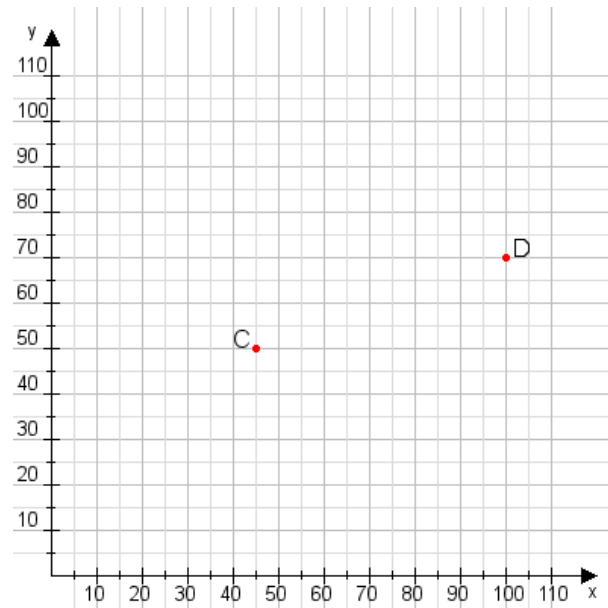


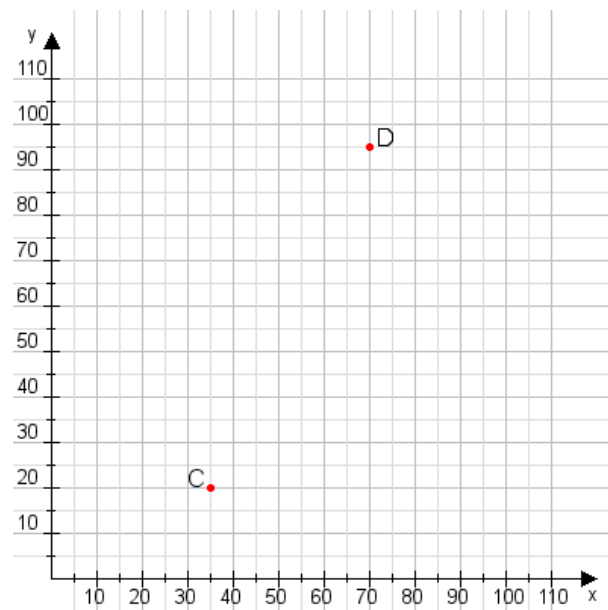
Aufgabe 1:

Zeichne den Punkt A(40|50) und den Punkt B(60|70) in das Koordinatensystem ein und verbinde beide Punkte miteinander. Verbinde die Eingetragenen Punkte C, D und ermittle deren Koordinaten.



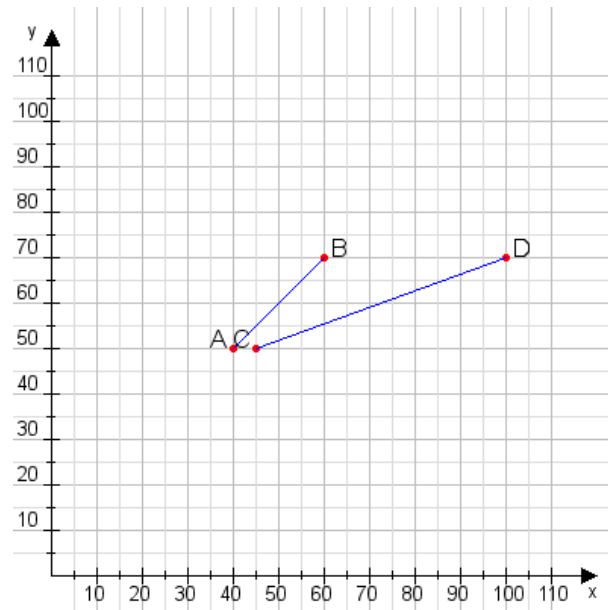
Aufgabe 2:

Zeichne den Punkt A(10|40) und den Punkt B(110|95) in das Koordinatensystem ein und verbinde beide Punkte miteinander. Verbinde die Eingetragenen Punkte C, D und ermittle deren Koordinaten.



Aufgabe 1:

C(45|50), D(100|70)



Aufgabe 2:

C(35|20), D(70|95)

