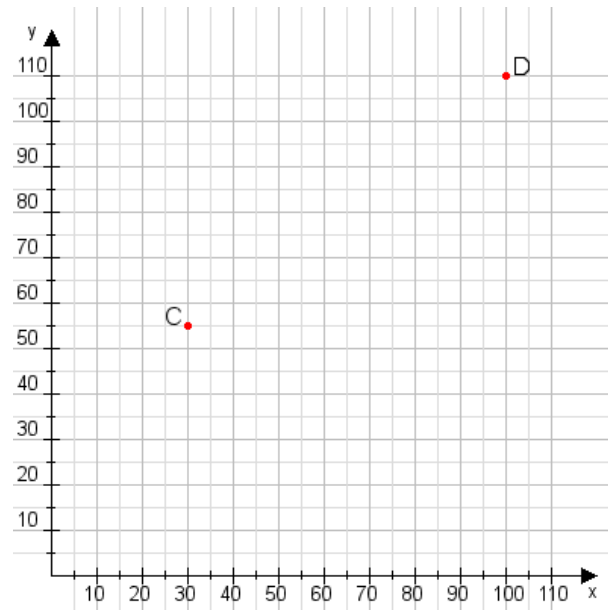


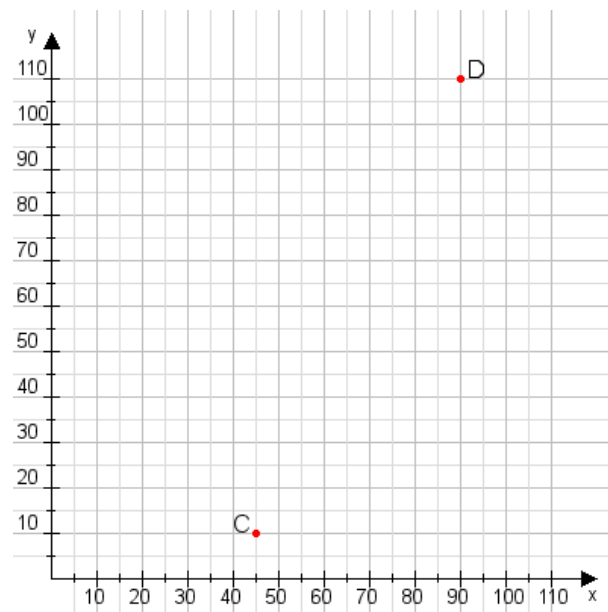
Aufgabe 1:

Zeichne den Punkt A(30|50) und den Punkt B(95|105) in das Koordinatensystem ein und verbinde beide Punkte miteinander. Verbinde die Eingetragenen Punkte C, D und ermittle deren Koordinaten.



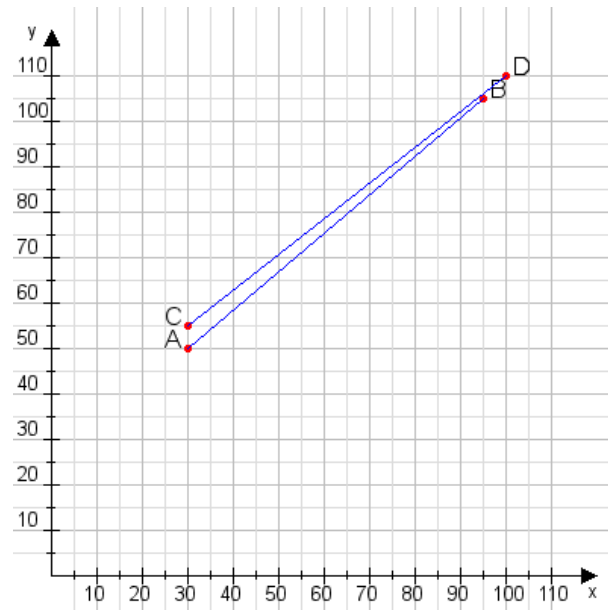
Aufgabe 2:

Zeichne den Punkt A(30|15) und den Punkt B(80|85) in das Koordinatensystem ein und verbinde beide Punkte miteinander. Verbinde die Eingetragenen Punkte C, D und ermittle deren Koordinaten.



Aufgabe 1:

C(30|55), D(100|110)



Aufgabe 2:

C(45|10), D(90|110)

