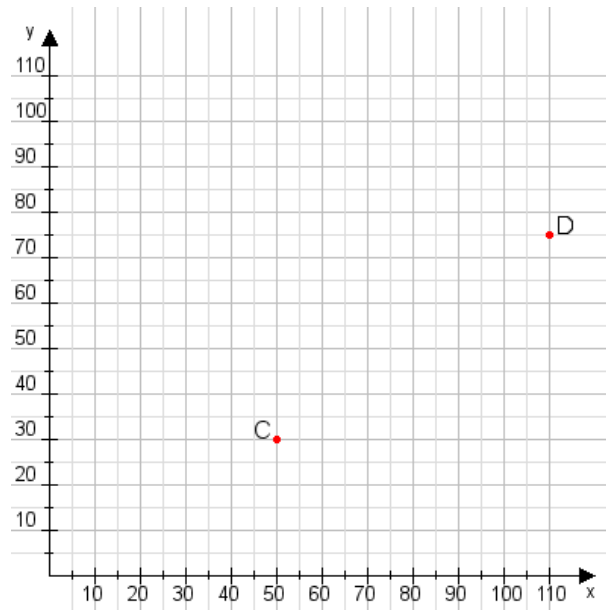


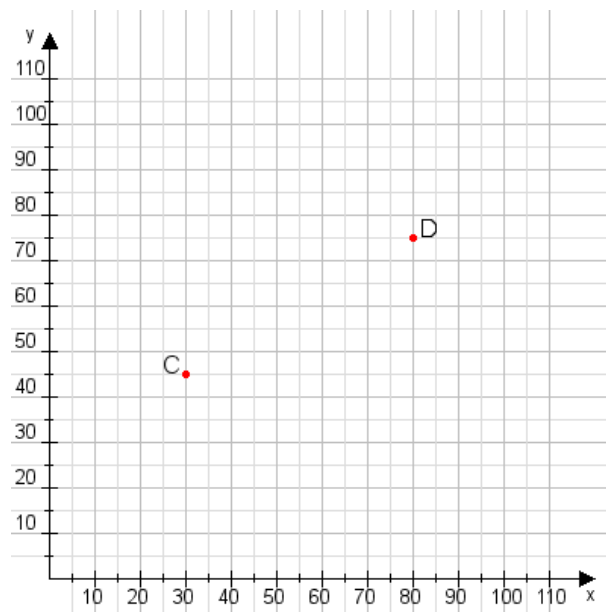
Aufgabe 1:

Zeichne den Punkt A(10|10) und den Punkt B(115|95) in das Koordinatensystem ein und verbinde beide Punkte miteinander. Verbinde die Eingetragenen Punkte C, D und ermittle deren Koordinaten.



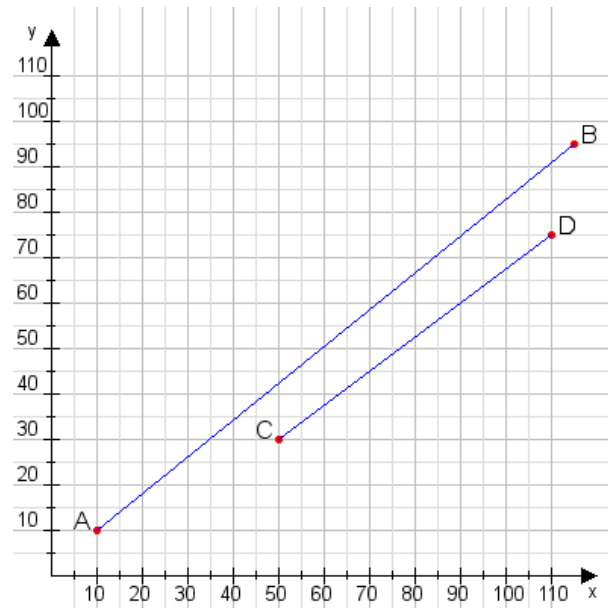
Aufgabe 2:

Zeichne den Punkt A(40|50) und den Punkt B(90|75) in das Koordinatensystem ein und verbinde beide Punkte miteinander. Verbinde die Eingetragenen Punkte C, D und ermittle deren Koordinaten.



Aufgabe 1:

C(50|30), D(110|75)



Aufgabe 2:

C(30|45), D(80|75)

