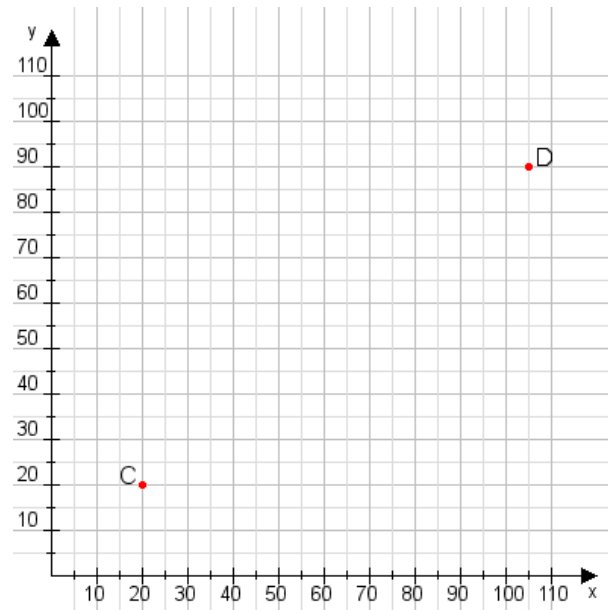


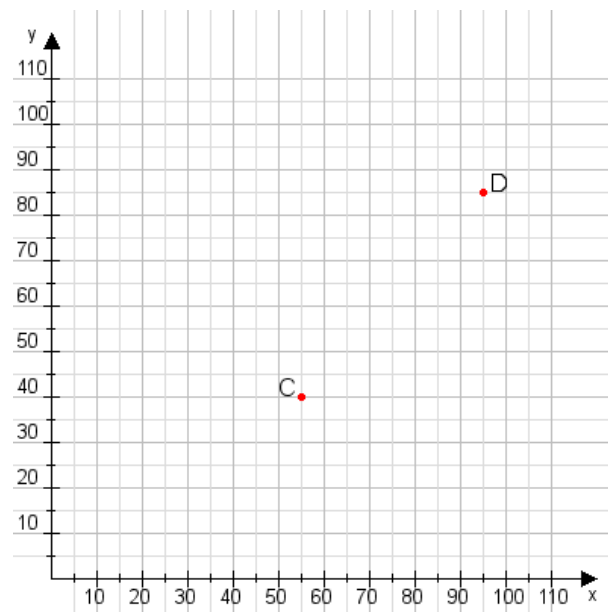
Aufgabe 1:

Zeichne den Punkt A(55|10) und den Punkt B(75|70) in das Koordinatensystem ein und verbinde beide Punkte miteinander. Verbinde die Eingetragenen Punkte C, D und ermittle deren Koordinaten.



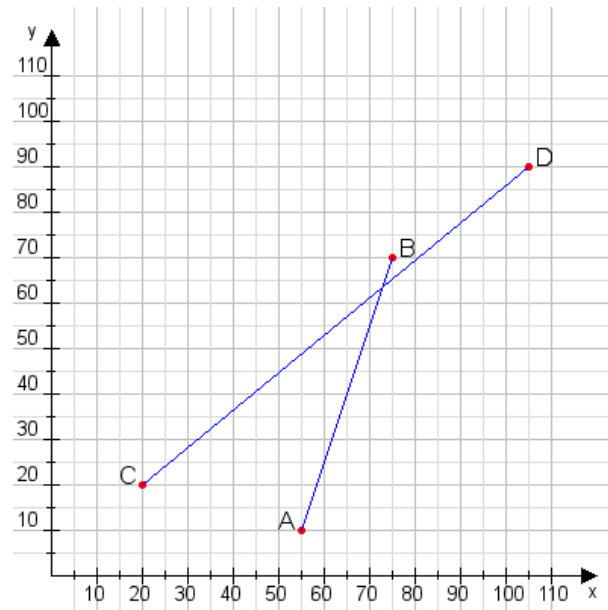
Aufgabe 2:

Zeichne den Punkt A(30|20) und den Punkt B(70|70) in das Koordinatensystem ein und verbinde beide Punkte miteinander. Verbinde die Eingetragenen Punkte C, D und ermittle deren Koordinaten.



Aufgabe 1:

C(20|20), D(105|90)



Aufgabe 2:

C(55|40), D(95|85)

