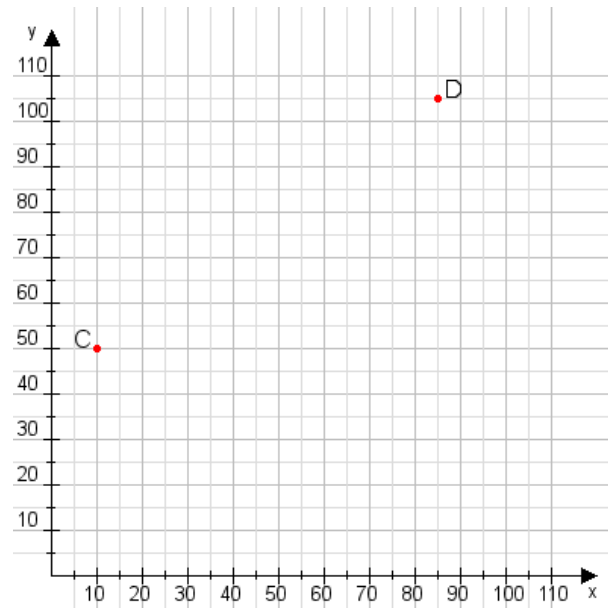


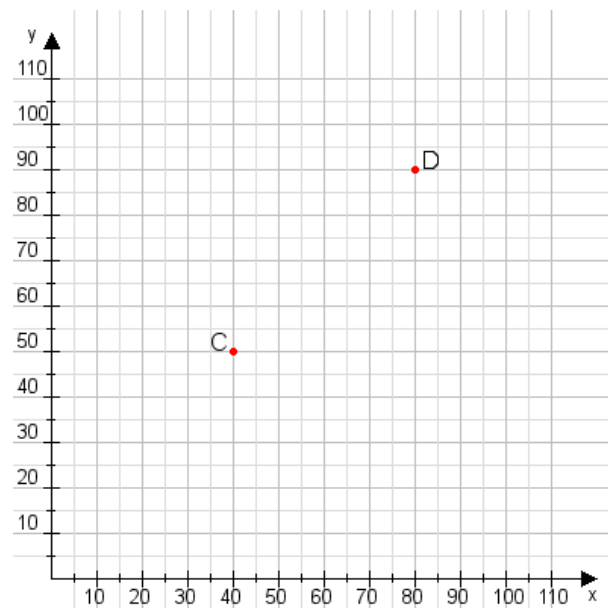
Aufgabe 1:

Zeichne den Punkt A(10|20) und den Punkt B(110|115) in das Koordinatensystem ein und verbinde beide Punkte miteinander. Verbinde die Eingetragenen Punkte C, D und ermittle deren Koordinaten.



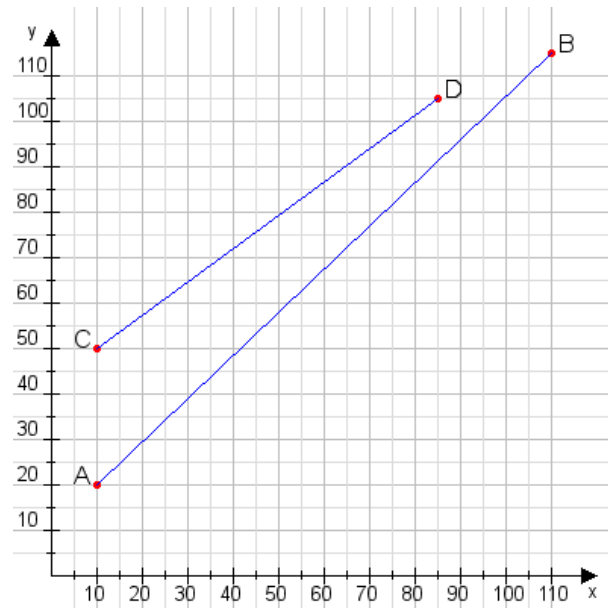
Aufgabe 2:

Zeichne den Punkt A(30|30) und den Punkt B(100|85) in das Koordinatensystem ein und verbinde beide Punkte miteinander. Verbinde die Eingetragenen Punkte C, D und ermittle deren Koordinaten.



Aufgabe 1:

C(10|50), D(85|105)



Aufgabe 2:

C(40|50), D(80|90)

