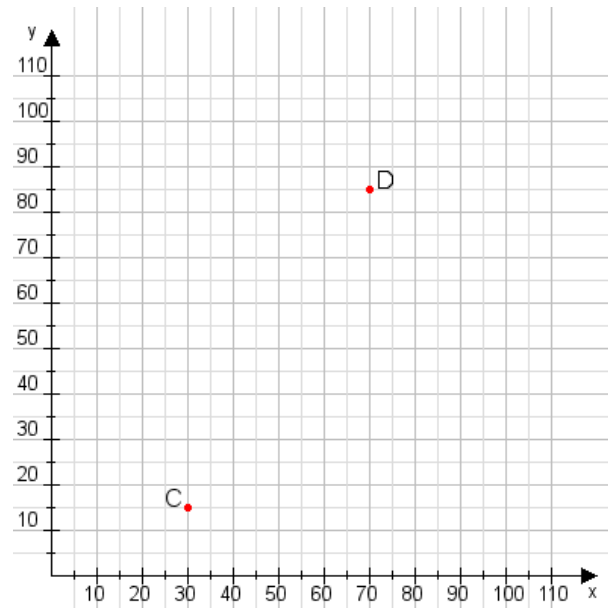


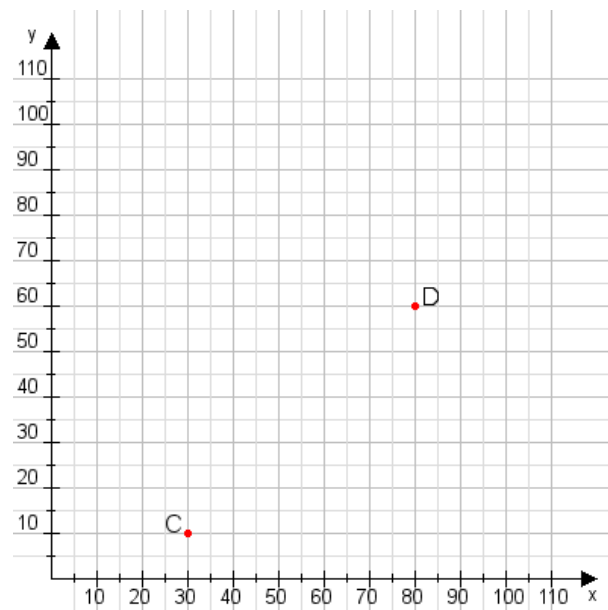
Aufgabe 1:

Zeichne den Punkt A(40|10) und den Punkt B(85|110) in das Koordinatensystem ein und verbinde beide Punkte miteinander. Verbinde die Eingetragenen Punkte C, D und ermittle deren Koordinaten.



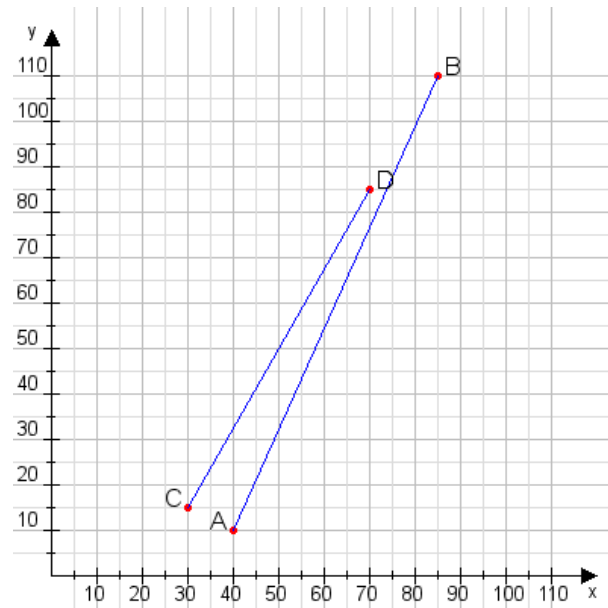
Aufgabe 2:

Zeichne den Punkt A(10|20) und den Punkt B(110|95) in das Koordinatensystem ein und verbinde beide Punkte miteinander. Verbinde die Eingetragenen Punkte C, D und ermittle deren Koordinaten.



Aufgabe 1:

C(30|15), D(70|85)



Aufgabe 2:

C(30|10), D(80|60)

