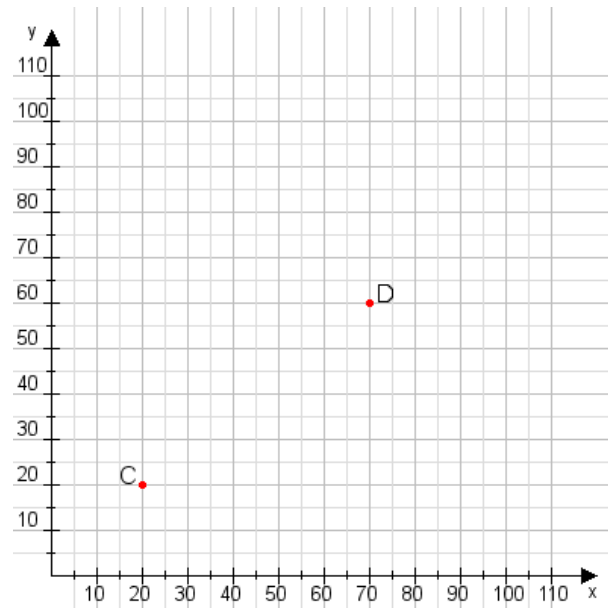


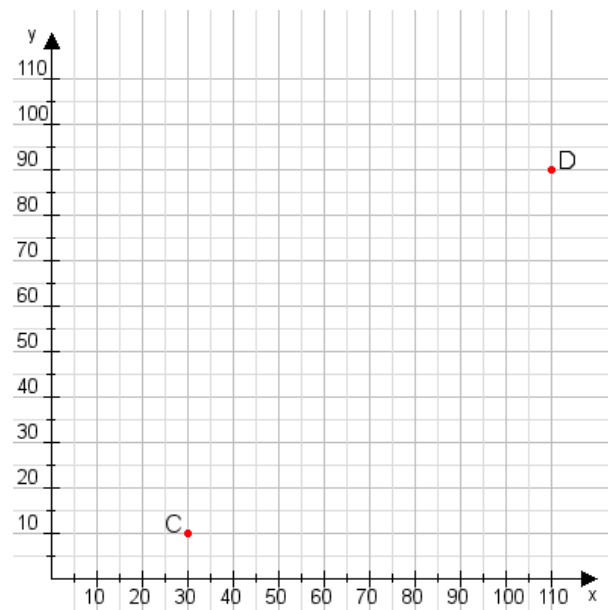
**Aufgabe 1:**

Zeichne den Punkt A(10|25) und den Punkt B(95|75) in das Koordinatensystem ein und verbinde beide Punkte miteinander. Verbinde die Eingetragenen Punkte C, D und ermittle deren Koordinaten.



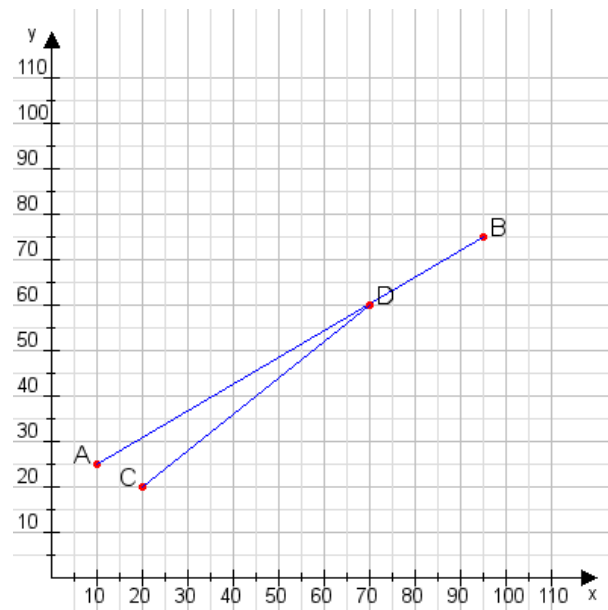
**Aufgabe 2:**

Zeichne den Punkt A(20|30) und den Punkt B(60|65) in das Koordinatensystem ein und verbinde beide Punkte miteinander. Verbinde die Eingetragenen Punkte C, D und ermittle deren Koordinaten.



**Aufgabe 1:**

C(20|20), D(70|60)



**Aufgabe 2:**

C(30|10), D(110|90)

