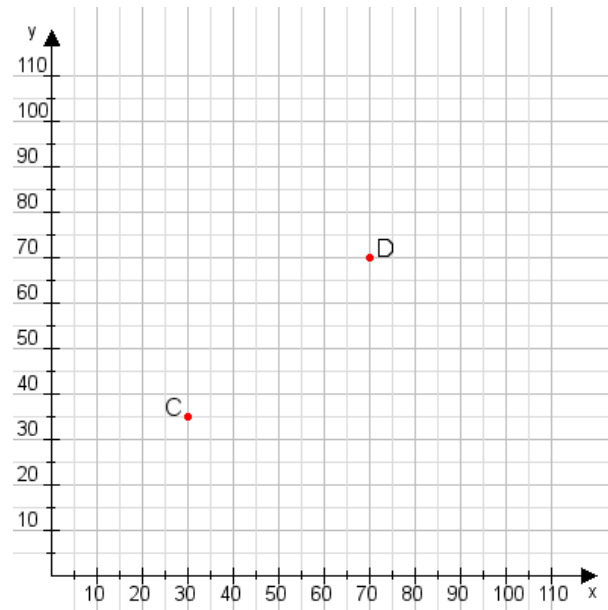


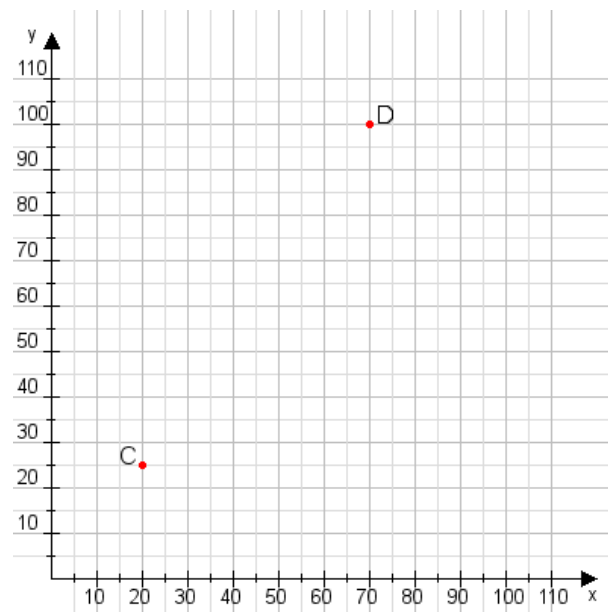
Aufgabe 1:

Zeichne den Punkt A(15|25) und den Punkt B(90|80) in das Koordinatensystem ein und verbinde beide Punkte miteinander. Verbinde die Eingetragenen Punkte C, D und ermittle deren Koordinaten.



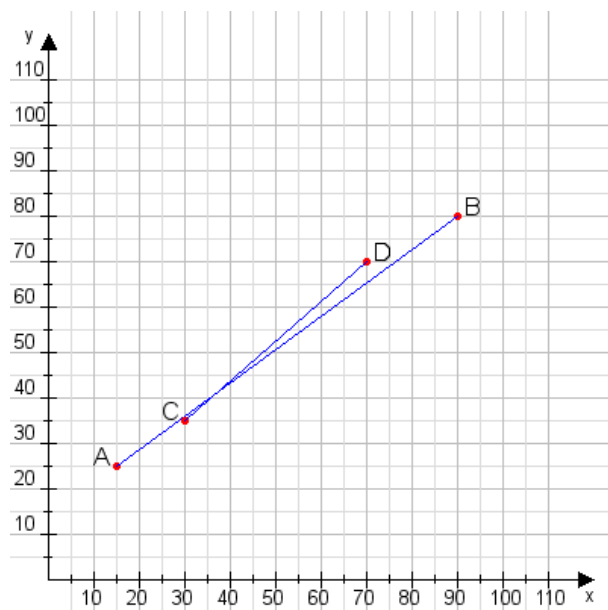
Aufgabe 2:

Zeichne den Punkt A(20|25) und den Punkt B(85|110) in das Koordinatensystem ein und verbinde beide Punkte miteinander. Verbinde die Eingetragenen Punkte C, D und ermittle deren Koordinaten.



Aufgabe 1:

C(30|35), D(70|70)



Aufgabe 2:

C(20|25), D(70|100)

