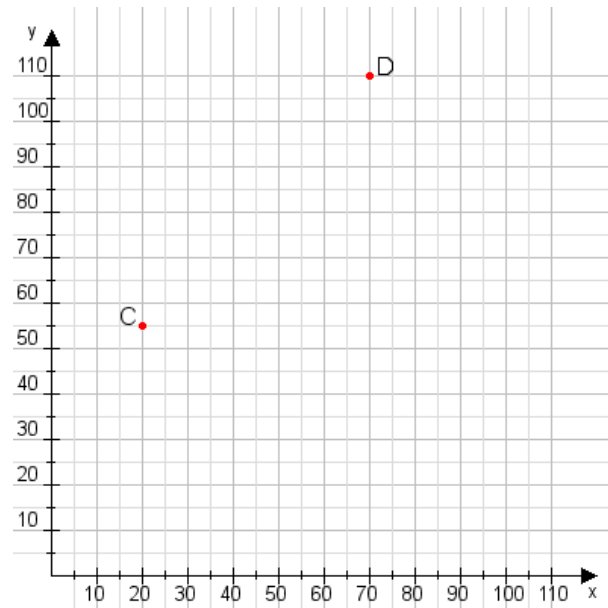


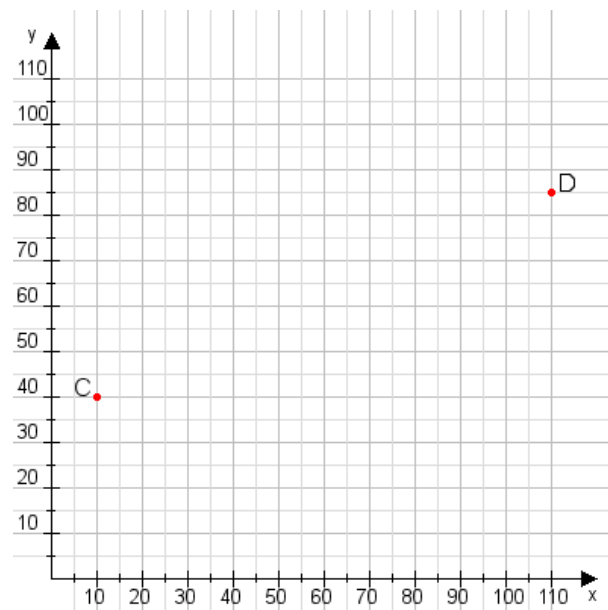
**Aufgabe 1:**

Zeichne den Punkt A(10|60) und den Punkt B(100|90) in das Koordinatensystem ein und verbinde beide Punkte miteinander. Verbinde die Eingetragenen Punkte C, D und ermittle deren Koordinaten.



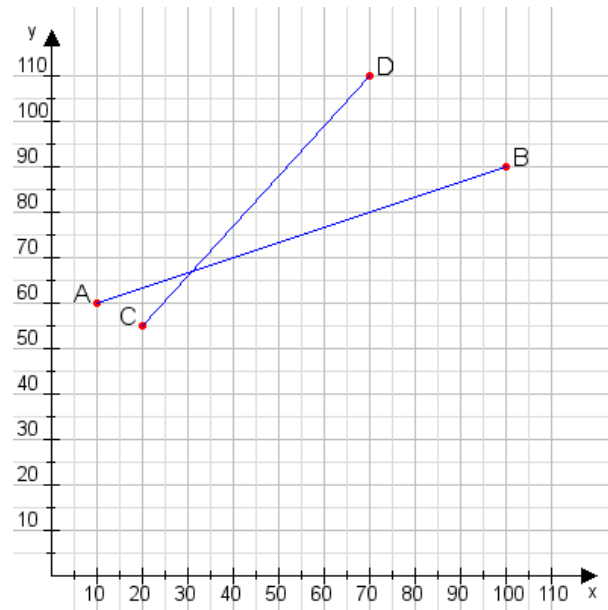
**Aufgabe 2:**

Zeichne den Punkt A(55|30) und den Punkt B(85|70) in das Koordinatensystem ein und verbinde beide Punkte miteinander. Verbinde die Eingetragenen Punkte C, D und ermittle deren Koordinaten.



**Aufgabe 1:**

C(20|55), D(70|110)



**Aufgabe 2:**

C(10|40), D(110|85)

