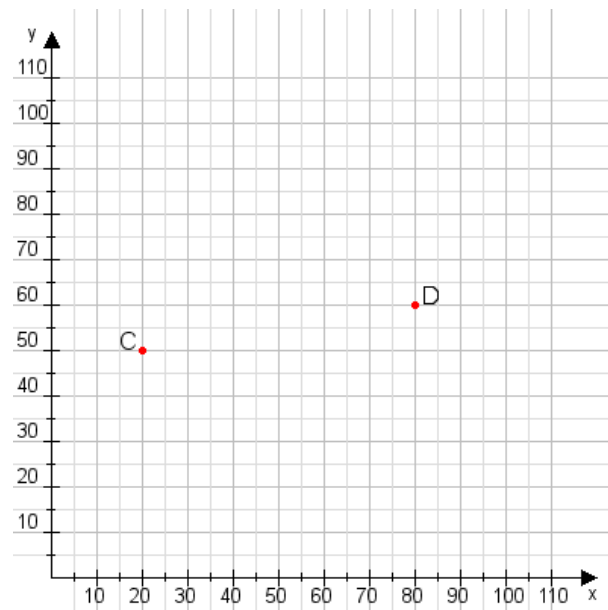


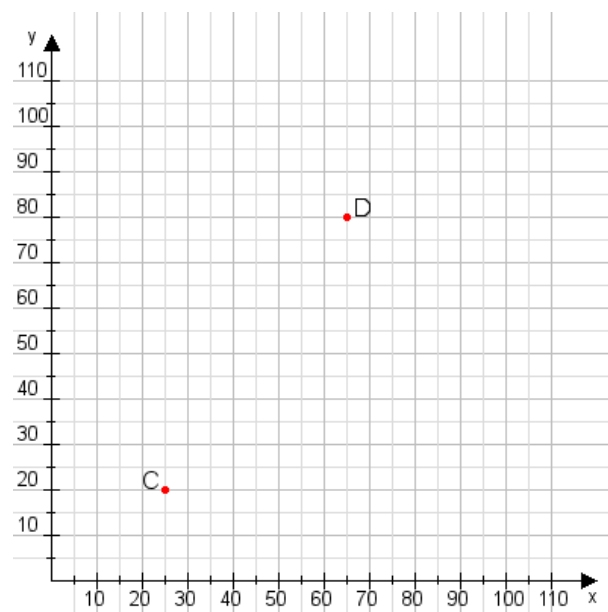
Aufgabe 1:

Zeichne den Punkt A(45|35) und den Punkt B(60|95) in das Koordinatensystem ein und verbinde beide Punkte miteinander. Verbinde die Eingetragenen Punkte C, D und ermittle deren Koordinaten.



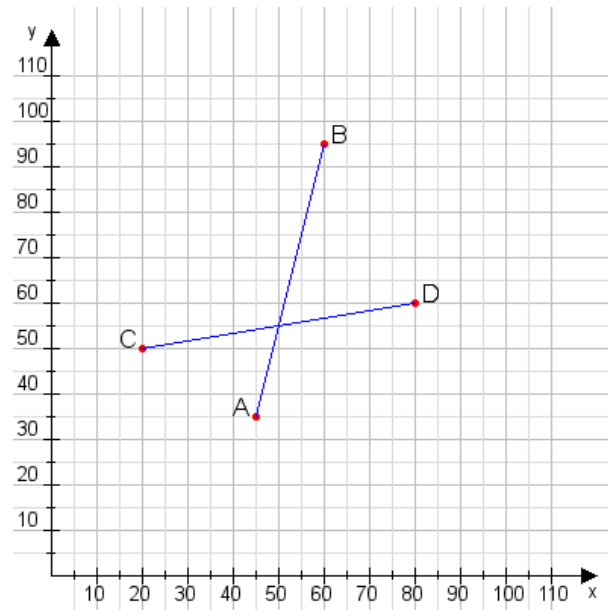
Aufgabe 2:

Zeichne den Punkt A(20|50) und den Punkt B(85|110) in das Koordinatensystem ein und verbinde beide Punkte miteinander. Verbinde die Eingetragenen Punkte C, D und ermittle deren Koordinaten.



Aufgabe 1:

C(20|50), D(80|60)



Aufgabe 2:

C(25|20), D(65|80)

