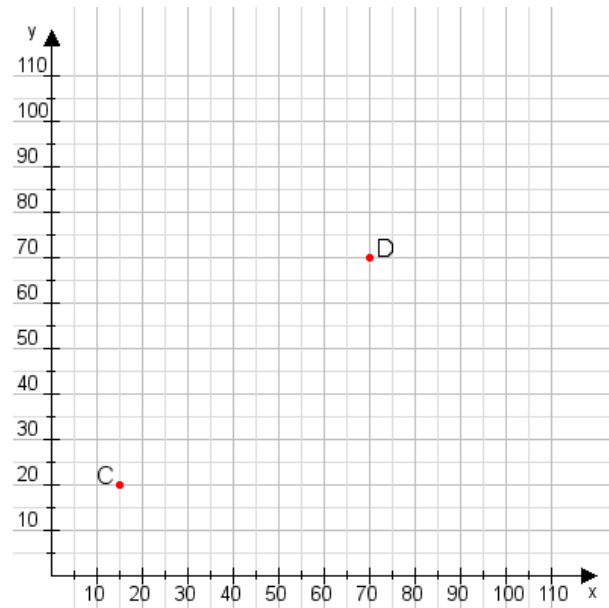


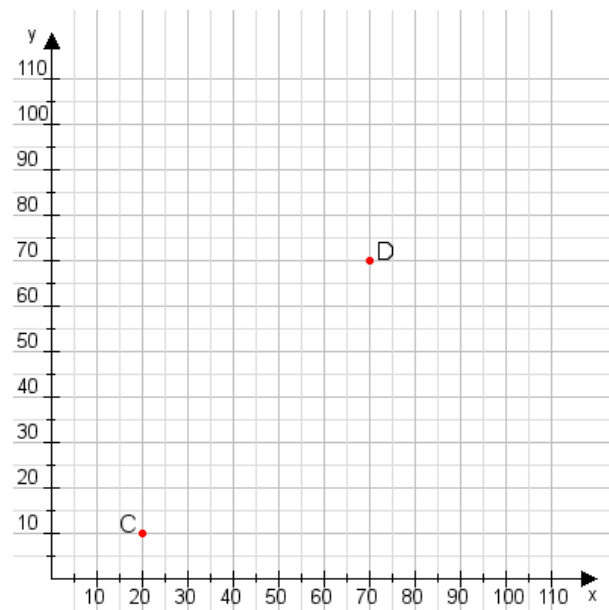
Aufgabe 1:

Zeichne den Punkt A(50|35) und den Punkt B(95|70) in das Koordinatensystem ein und verbinde beide Punkte miteinander. Verbinde die Eingetragenen Punkte C, D und ermittle deren Koordinaten.



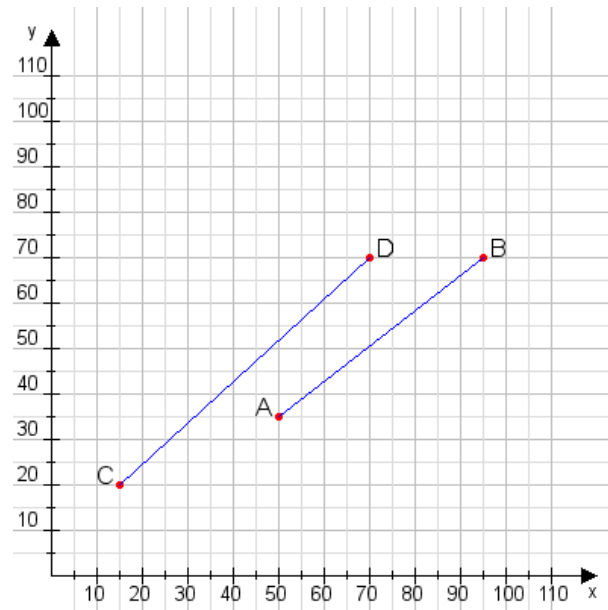
Aufgabe 2:

Zeichne den Punkt A(40|35) und den Punkt B(90|110) in das Koordinatensystem ein und verbinde beide Punkte miteinander. Verbinde die Eingetragenen Punkte C, D und ermittle deren Koordinaten.



Aufgabe 1:

C(15|20), D(70|70)



Aufgabe 2:

C(20|10), D(70|70)

