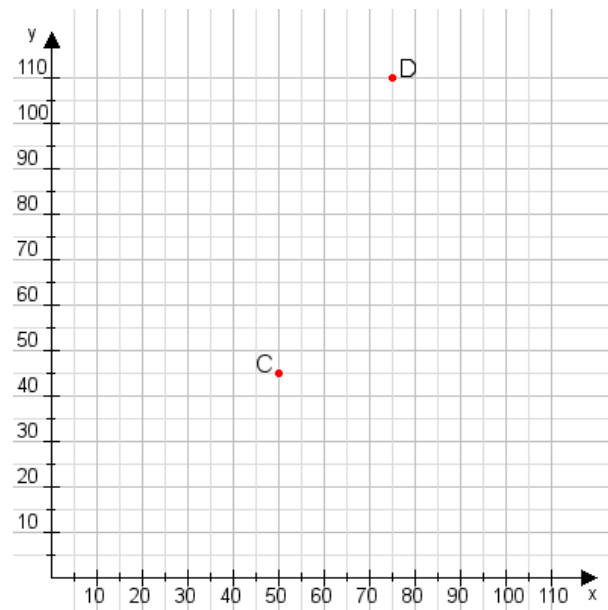


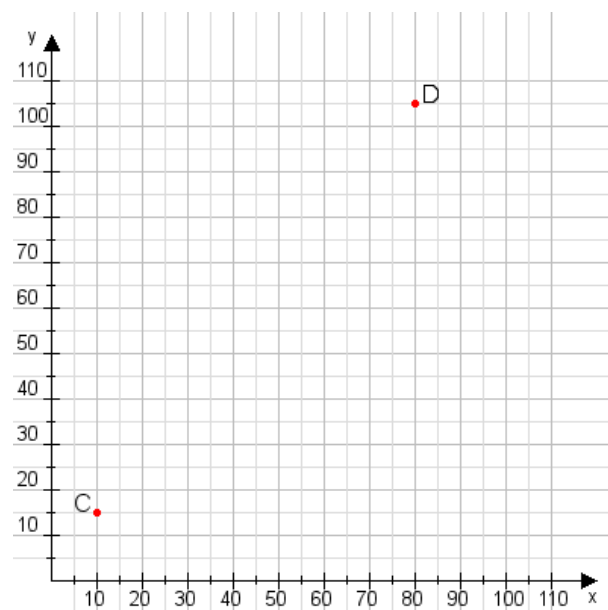
Aufgabe 1:

Zeichne den Punkt A(30|20) und den Punkt B(90|75) in das Koordinatensystem ein und verbinde beide Punkte miteinander. Verbinde die Eingetragenen Punkte C, D und ermittle deren Koordinaten.



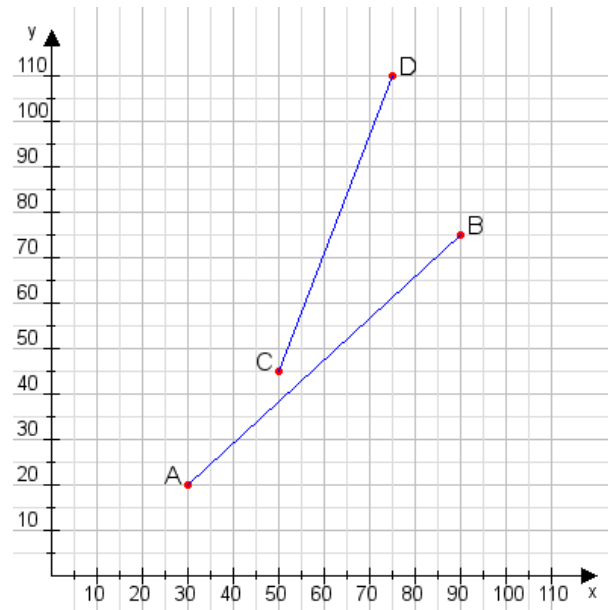
Aufgabe 2:

Zeichne den Punkt A(40|30) und den Punkt B(65|100) in das Koordinatensystem ein und verbinde beide Punkte miteinander. Verbinde die Eingetragenen Punkte C, D und ermittle deren Koordinaten.



Aufgabe 1:

C(50|45), D(75|110)



Aufgabe 2:

C(10|15), D(80|105)

