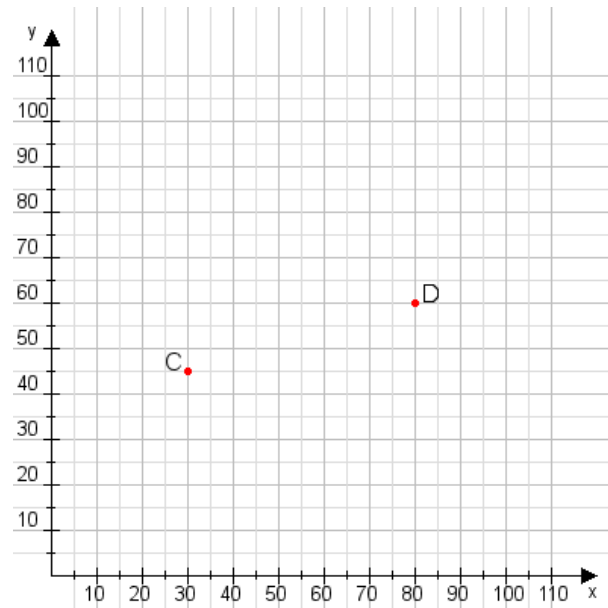


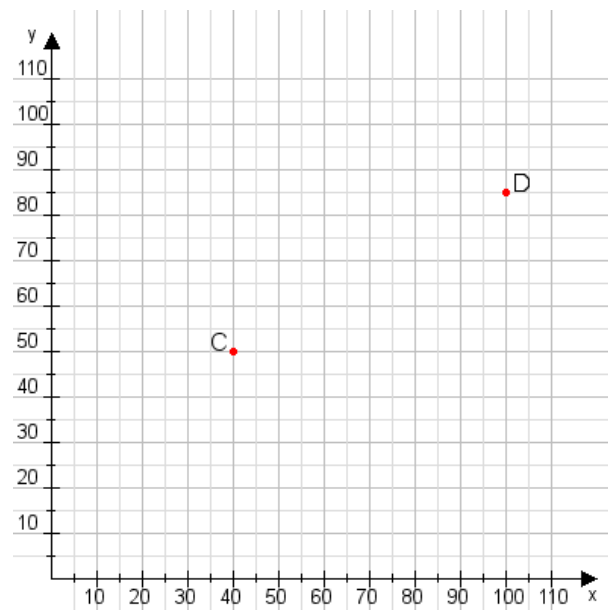
**Aufgabe 1:**

Zeichne den Punkt A(20|15) und den Punkt B(105|70) in das Koordinatensystem ein und verbinde beide Punkte miteinander. Verbinde die Eingetragenen Punkte C, D und ermittle deren Koordinaten.



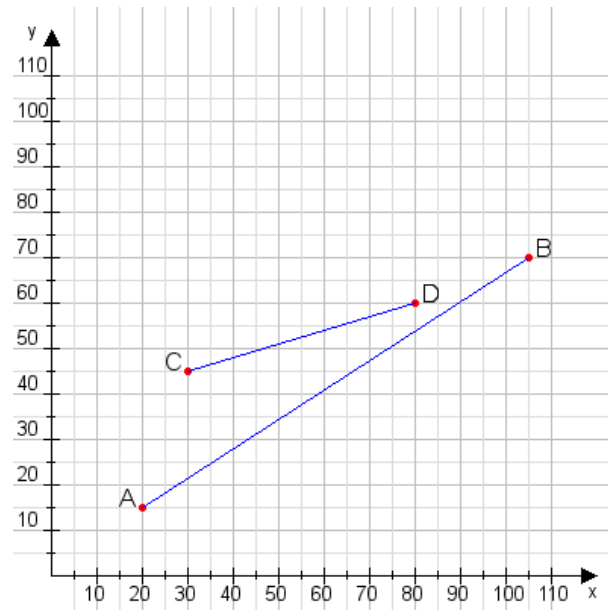
**Aufgabe 2:**

Zeichne den Punkt A(40|30) und den Punkt B(100|70) in das Koordinatensystem ein und verbinde beide Punkte miteinander. Verbinde die Eingetragenen Punkte C, D und ermittle deren Koordinaten.



**Aufgabe 1:**

C(30|45), D(80|60)



**Aufgabe 2:**

C(40|50), D(100|85)

