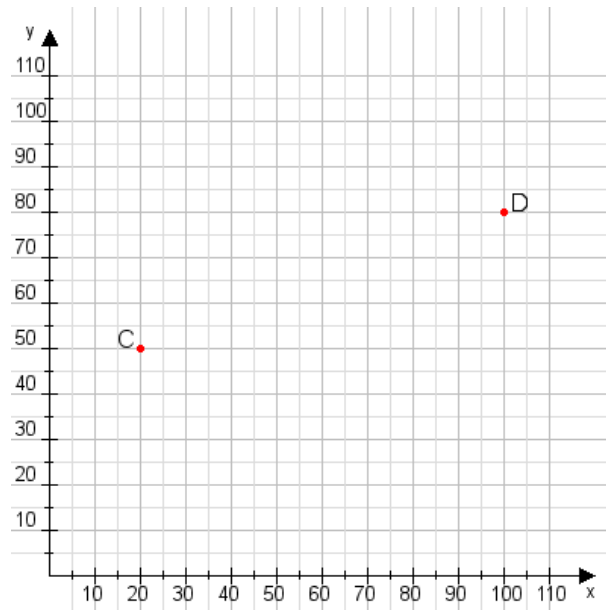


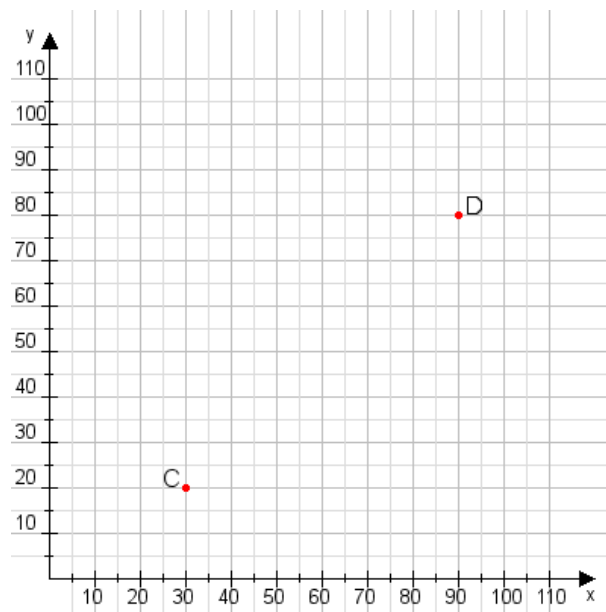
Aufgabe 1:

Zeichne den Punkt A(50|40) und den Punkt B(90|75) in das Koordinatensystem ein und verbinde beide Punkte miteinander. Verbinde die Eingetragenen Punkte C, D und ermittle deren Koordinaten.



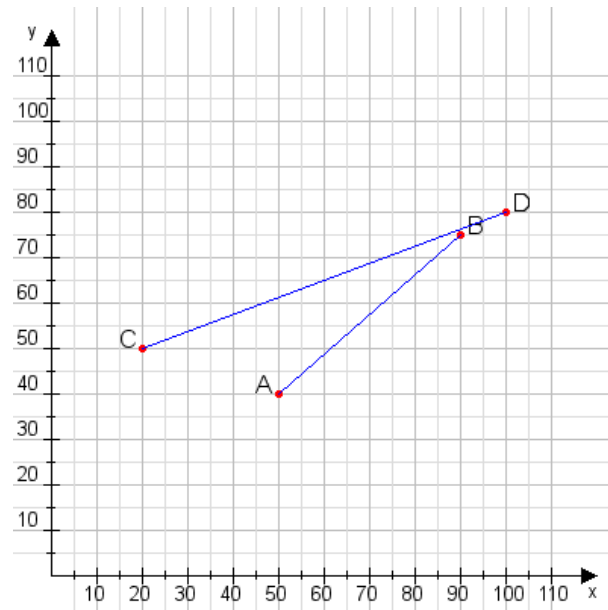
Aufgabe 2:

Zeichne den Punkt A(40|30) und den Punkt B(110|85) in das Koordinatensystem ein und verbinde beide Punkte miteinander. Verbinde die Eingetragenen Punkte C, D und ermittle deren Koordinaten.



Aufgabe 1:

C(20|50), D(100|80)



Aufgabe 2:

C(30|20), D(90|80)

