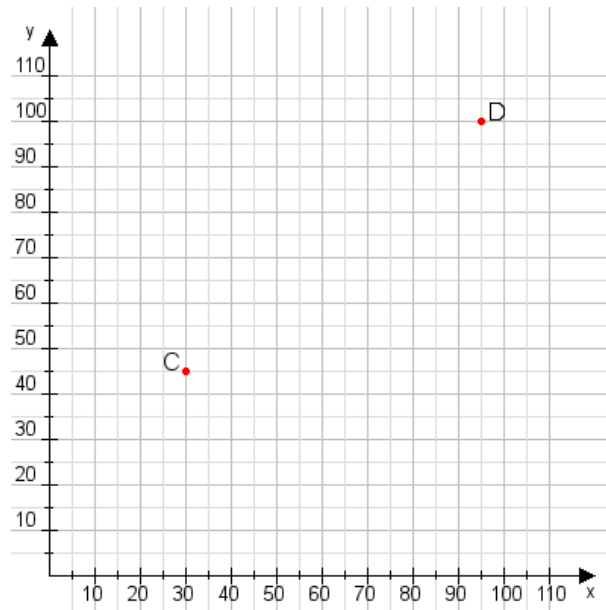


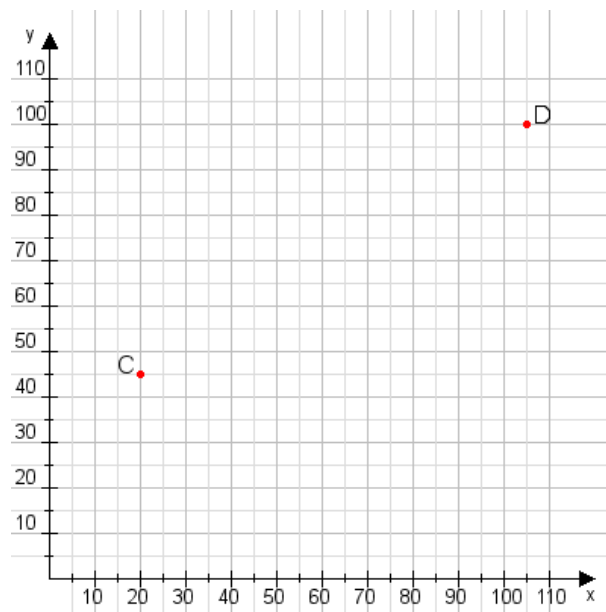
Aufgabe 1:

Zeichne den Punkt A(40|45) und den Punkt B(70|80) in das Koordinatensystem ein und verbinde beide Punkte miteinander. Verbinde die Eingetragenen Punkte C, D und ermittle deren Koordinaten.



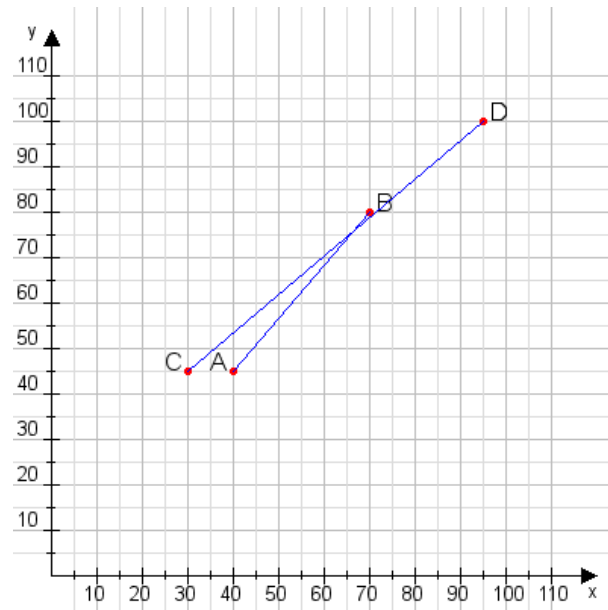
Aufgabe 2:

Zeichne den Punkt A(40|10) und den Punkt B(75|90) in das Koordinatensystem ein und verbinde beide Punkte miteinander. Verbinde die Eingetragenen Punkte C, D und ermittle deren Koordinaten.



Aufgabe 1:

C(30|45), D(95|100)



Aufgabe 2:

C(20|45), D(105|100)

