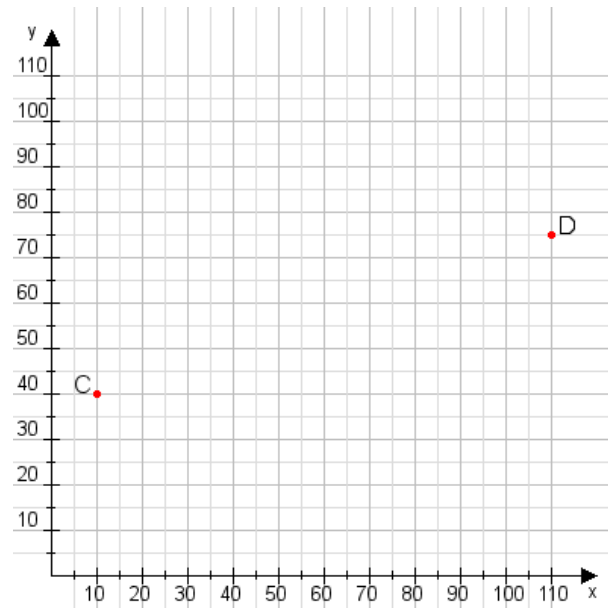


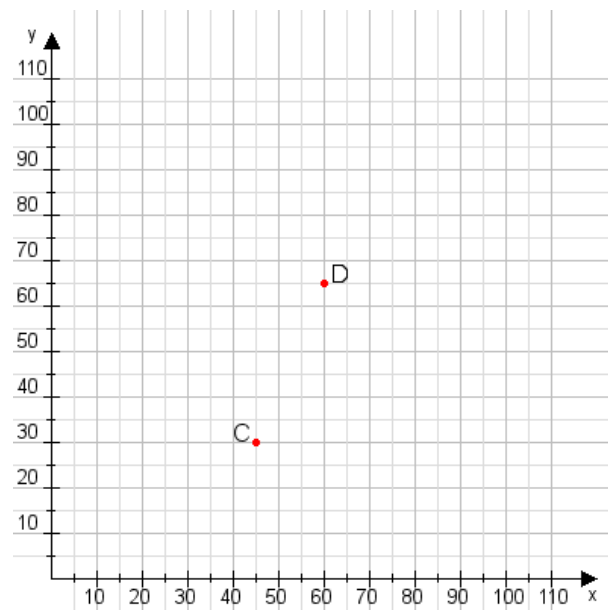
**Aufgabe 1:**

Zeichne den Punkt A(35|15) und den Punkt B(110|60) in das Koordinatensystem ein und verbinde beide Punkte miteinander. Verbinde die Eingetragenen Punkte C, D und ermittle deren Koordinaten.



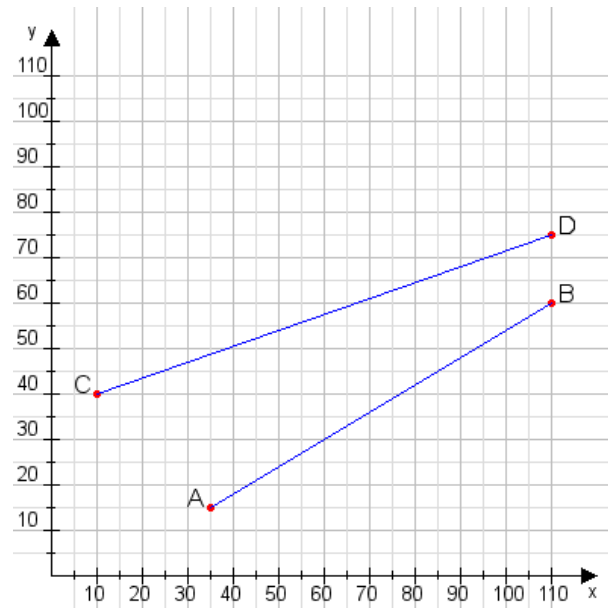
**Aufgabe 2:**

Zeichne den Punkt A(45|20) und den Punkt B(100|80) in das Koordinatensystem ein und verbinde beide Punkte miteinander. Verbinde die Eingetragenen Punkte C, D und ermittle deren Koordinaten.



**Aufgabe 1:**

C(10|40), D(110|75)



**Aufgabe 2:**

C(45|30), D(60|65)

