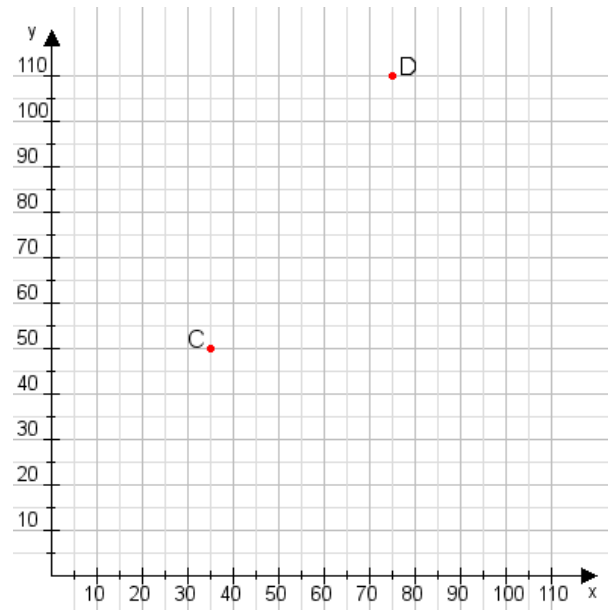


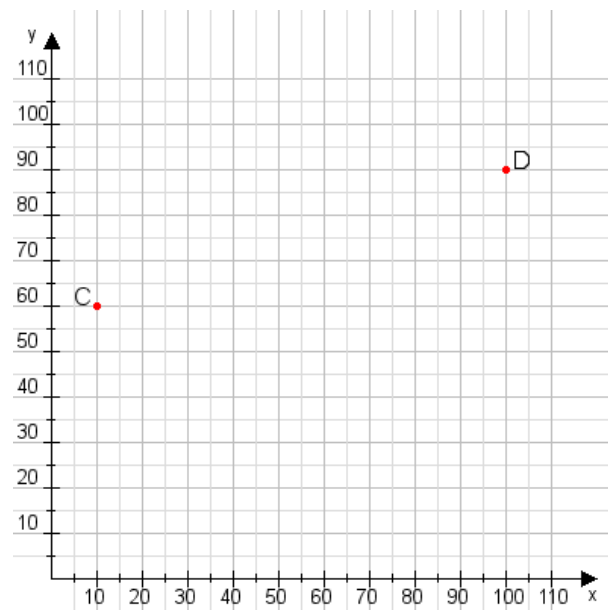
**Aufgabe 1:**

Zeichne den Punkt A(50|35) und den Punkt B(60|90) in das Koordinatensystem ein und verbinde beide Punkte miteinander. Verbinde die Eingetragenen Punkte C, D und ermittle deren Koordinaten.



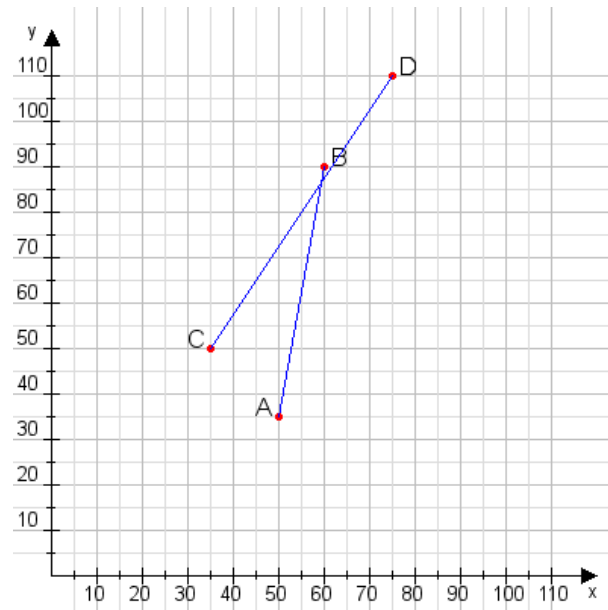
**Aufgabe 2:**

Zeichne den Punkt A(20|35) und den Punkt B(90|110) in das Koordinatensystem ein und verbinde beide Punkte miteinander. Verbinde die Eingetragenen Punkte C, D und ermittle deren Koordinaten.



**Aufgabe 1:**

C(35|50), D(75|110)



**Aufgabe 2:**

C(10|60), D(100|90)

