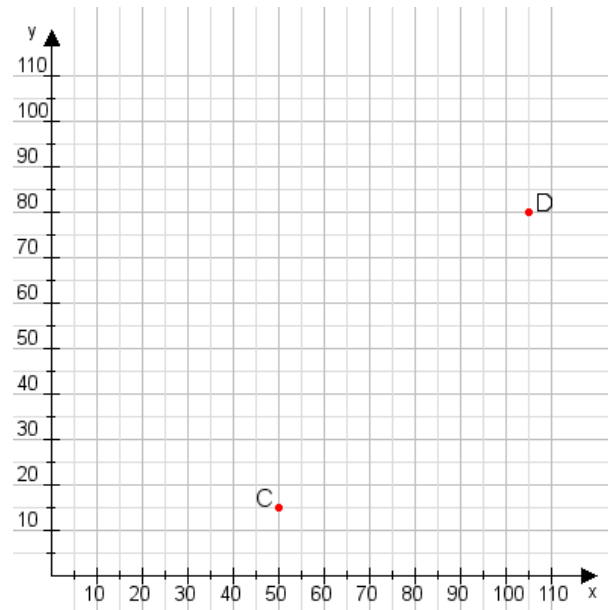


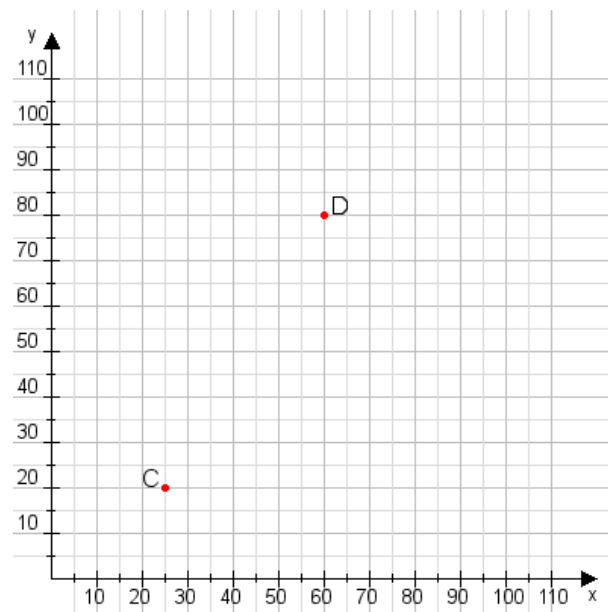
Aufgabe 1:

Zeichne den Punkt A(35|10) und den Punkt B(70|80) in das Koordinatensystem ein und verbinde beide Punkte miteinander. Verbinde die Eingetragenen Punkte C, D und ermittle deren Koordinaten.



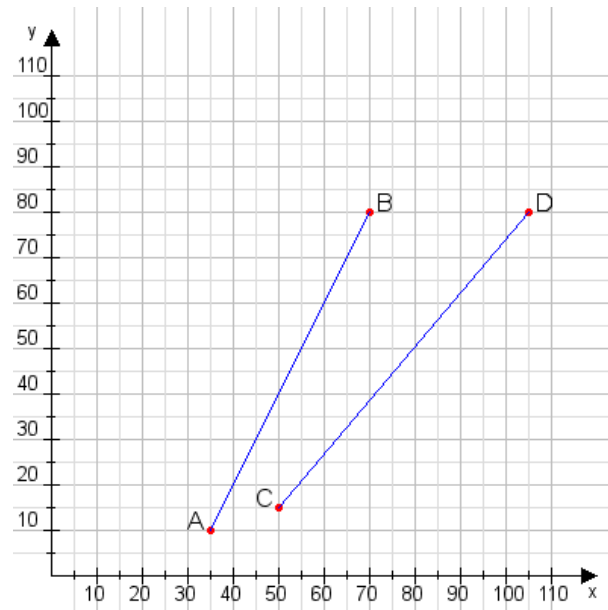
Aufgabe 2:

Zeichne den Punkt A(40|15) und den Punkt B(115|70) in das Koordinatensystem ein und verbinde beide Punkte miteinander. Verbinde die Eingetragenen Punkte C, D und ermittle deren Koordinaten.



Aufgabe 1:

C(50|15), D(105|80)



Aufgabe 2:

C(25|20), D(60|80)

