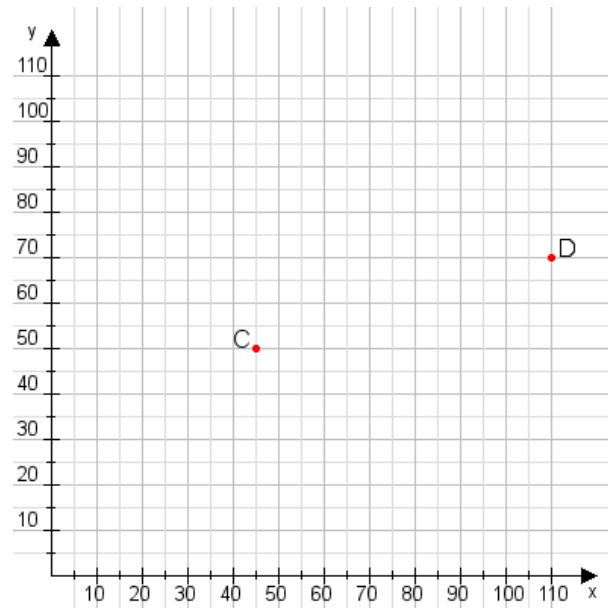


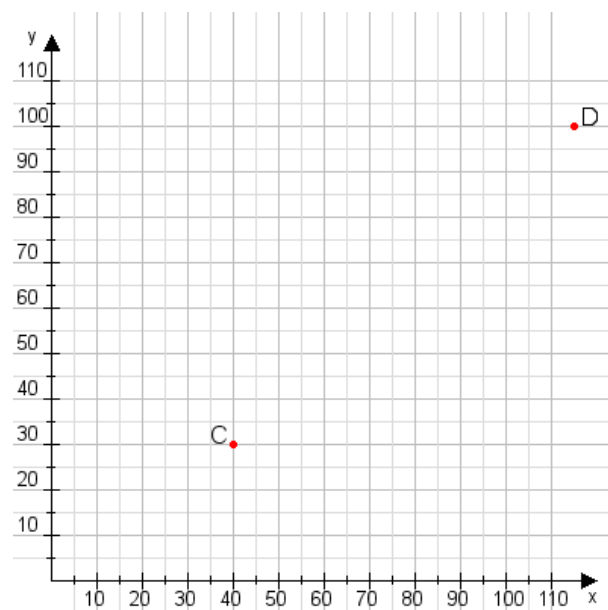
**Aufgabe 1:**

Zeichne den Punkt A(15|30) und den Punkt B(70|75) in das Koordinatensystem ein und verbinde beide Punkte miteinander. Verbinde die Eingetragenen Punkte C, D und ermittle deren Koordinaten.



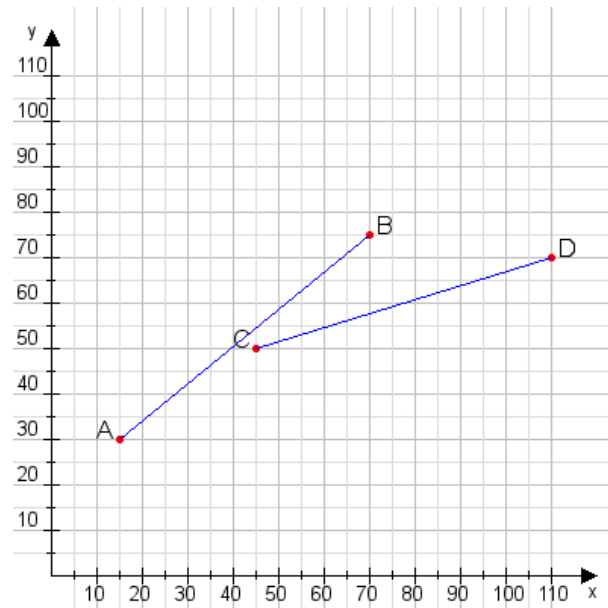
**Aufgabe 2:**

Zeichne den Punkt A(45|10) und den Punkt B(100|85) in das Koordinatensystem ein und verbinde beide Punkte miteinander. Verbinde die Eingetragenen Punkte C, D und ermittle deren Koordinaten.



**Aufgabe 1:**

C(45|50), D(110|70)



**Aufgabe 2:**

C(40|30), D(115|100)

