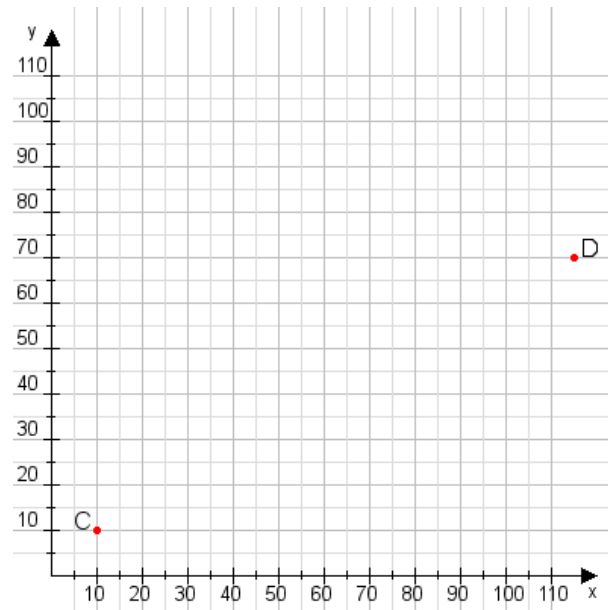


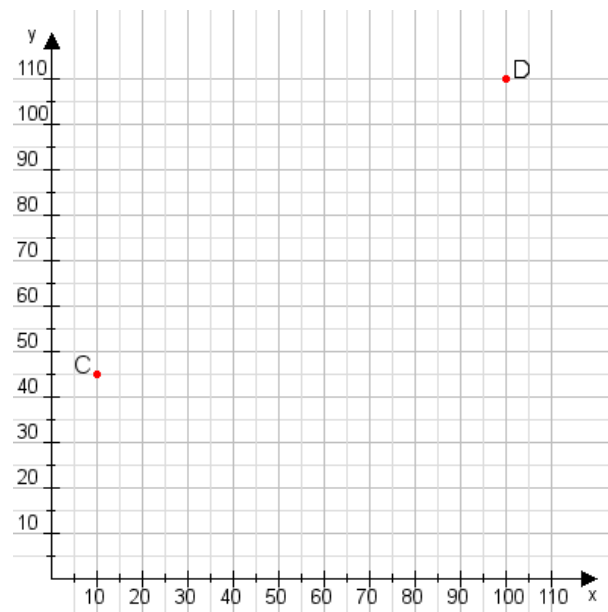
Aufgabe 1:

Zeichne den Punkt A(35|35) und den Punkt B(70|90) in das Koordinatensystem ein und verbinde beide Punkte miteinander. Verbinde die Eingetragenen Punkte C, D und ermittle deren Koordinaten.



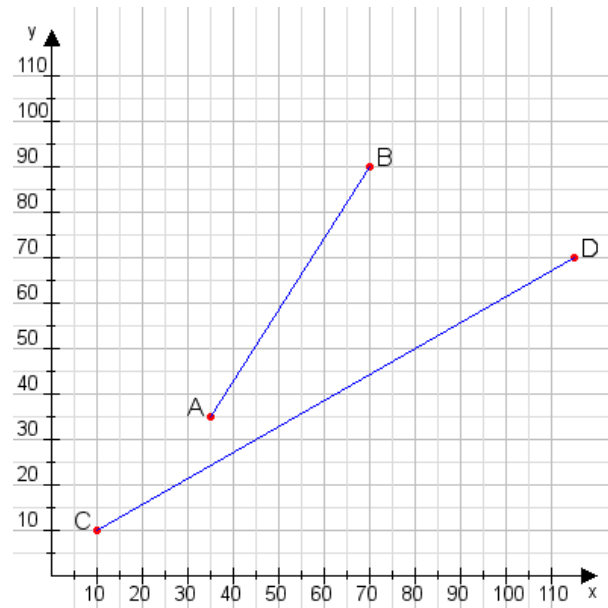
Aufgabe 2:

Zeichne den Punkt A(20|25) und den Punkt B(105|80) in das Koordinatensystem ein und verbinde beide Punkte miteinander. Verbinde die Eingetragenen Punkte C, D und ermittle deren Koordinaten.



Aufgabe 1:

C(10|10), D(115|70)



Aufgabe 2:

C(10|45), D(100|110)

