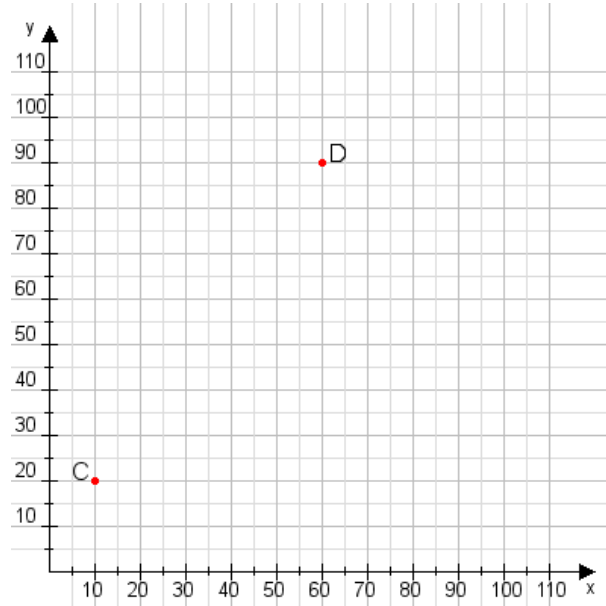


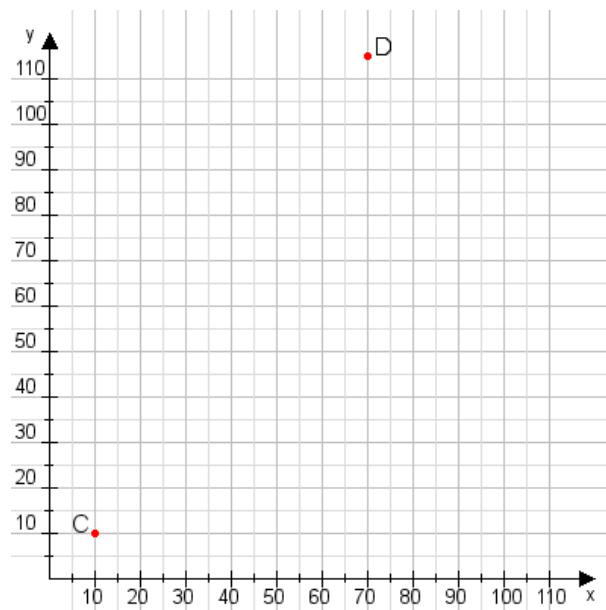
**Aufgabe 1:**

Zeichne den Punkt A(60|35) und den Punkt B(80|90) in das Koordinatensystem ein und verbinde beide Punkte miteinander. Verbinde die Eingetragenen Punkte C, D und ermittle deren Koordinaten.



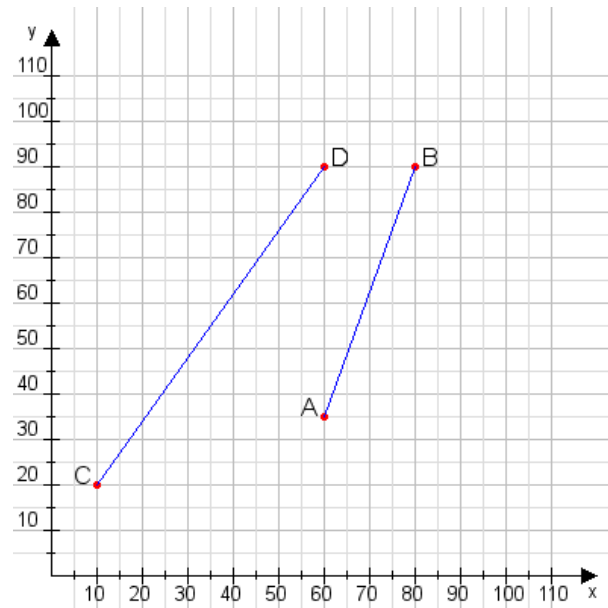
**Aufgabe 2:**

Zeichne den Punkt A(15|25) und den Punkt B(80|110) in das Koordinatensystem ein und verbinde beide Punkte miteinander. Verbinde die Eingetragenen Punkte C, D und ermittle deren Koordinaten.



**Aufgabe 1:**

C(10|20), D(60|90)



**Aufgabe 2:**

C(10|10), D(70|115)

