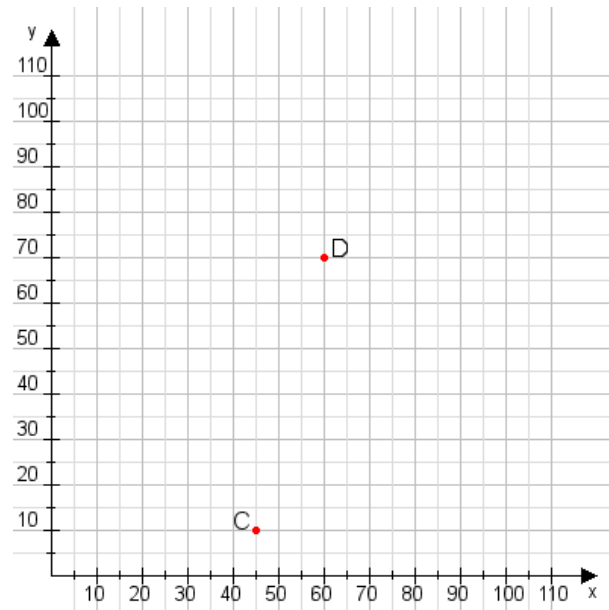


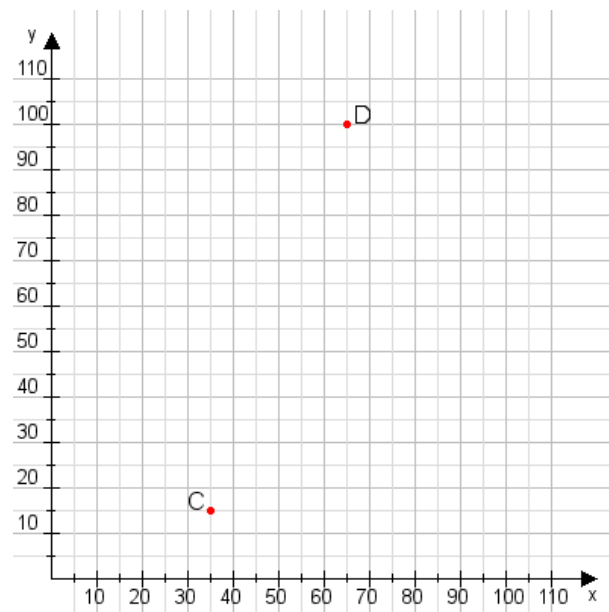
**Aufgabe 1:**

Zeichne den Punkt A(45|20) und den Punkt B(110|75) in das Koordinatensystem ein und verbinde beide Punkte miteinander. Verbinde die Eingetragenen Punkte C, D und ermittle deren Koordinaten.



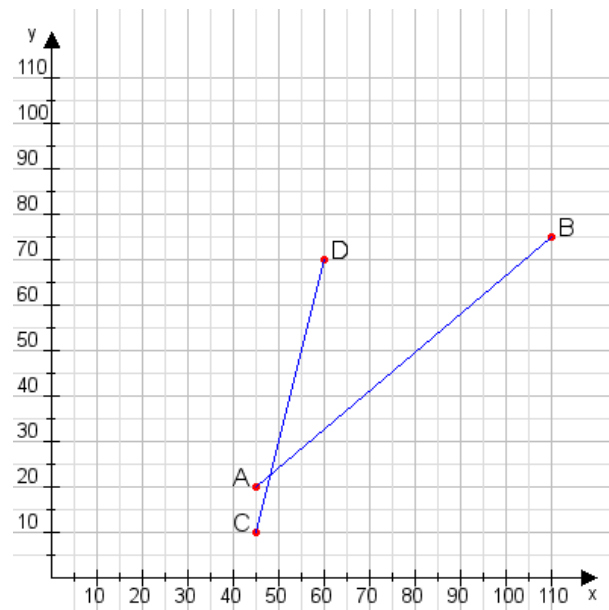
**Aufgabe 2:**

Zeichne den Punkt A(30|10) und den Punkt B(70|100) in das Koordinatensystem ein und verbinde beide Punkte miteinander. Verbinde die Eingetragenen Punkte C, D und ermittle deren Koordinaten.



**Aufgabe 1:**

C(45|10), D(60|70)



**Aufgabe 2:**

C(35|15), D(65|100)

