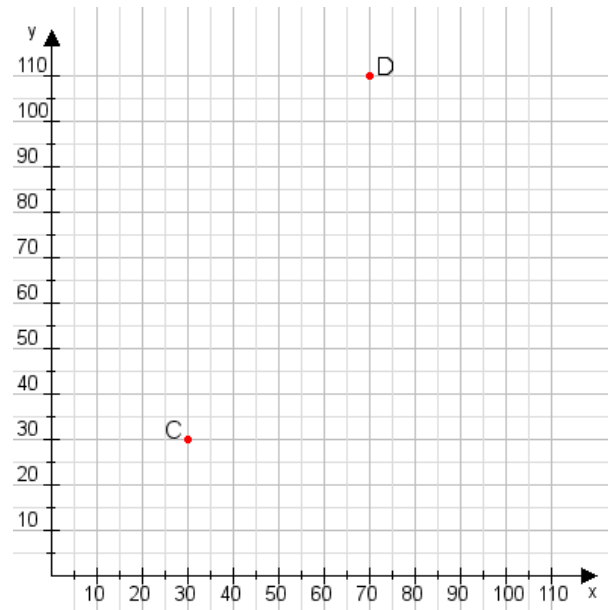


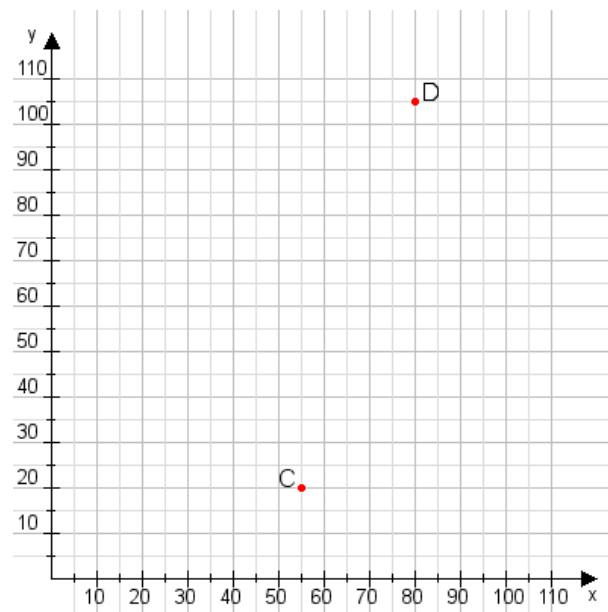
Aufgabe 1:

Zeichne den Punkt A(55|10) und den Punkt B(85|65) in das Koordinatensystem ein und verbinde beide Punkte miteinander. Verbinde die Eingetragenen Punkte C, D und ermittle deren Koordinaten.



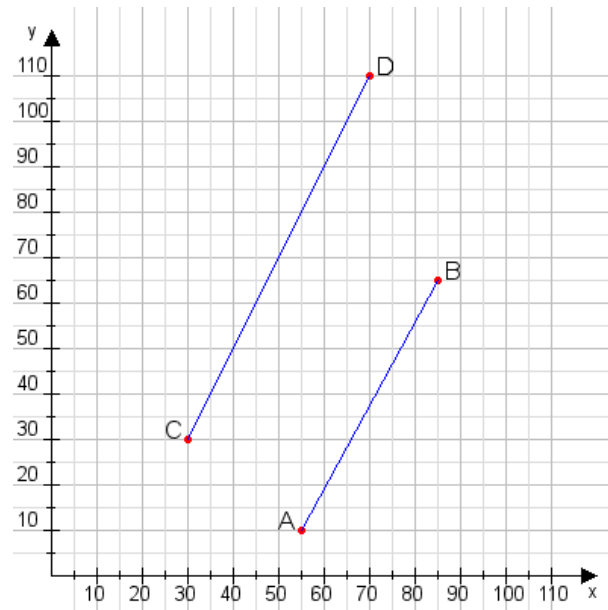
Aufgabe 2:

Zeichne den Punkt A(50|30) und den Punkt B(75|80) in das Koordinatensystem ein und verbinde beide Punkte miteinander. Verbinde die Eingetragenen Punkte C, D und ermittle deren Koordinaten.



Aufgabe 1:

C(30|30), D(70|110)



Aufgabe 2:

C(55|20), D(80|105)

