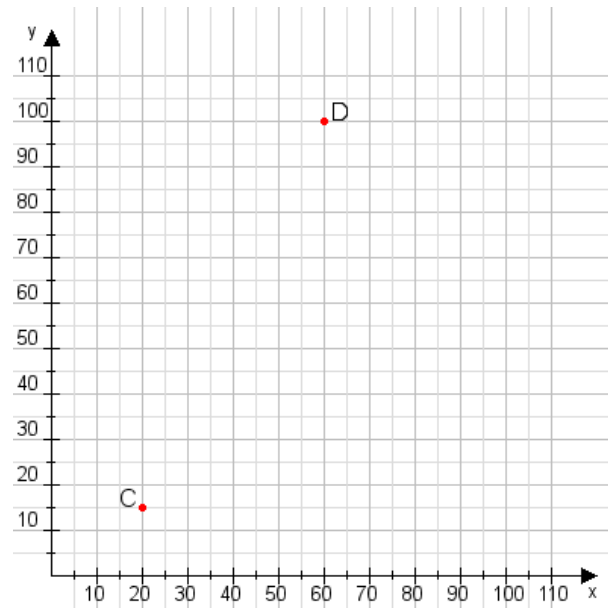


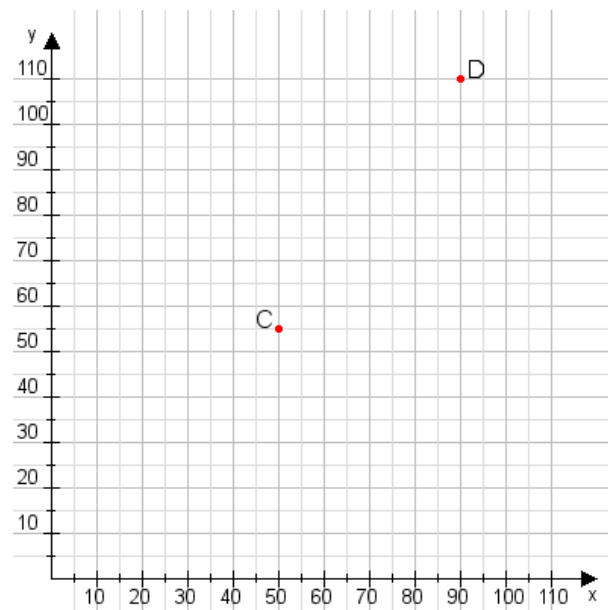
Aufgabe 1:

Zeichne den Punkt A(15|30) und den Punkt B(65|100) in das Koordinatensystem ein und verbinde beide Punkte miteinander. Verbinde die Eingetragenen Punkte C, D und ermittle deren Koordinaten.



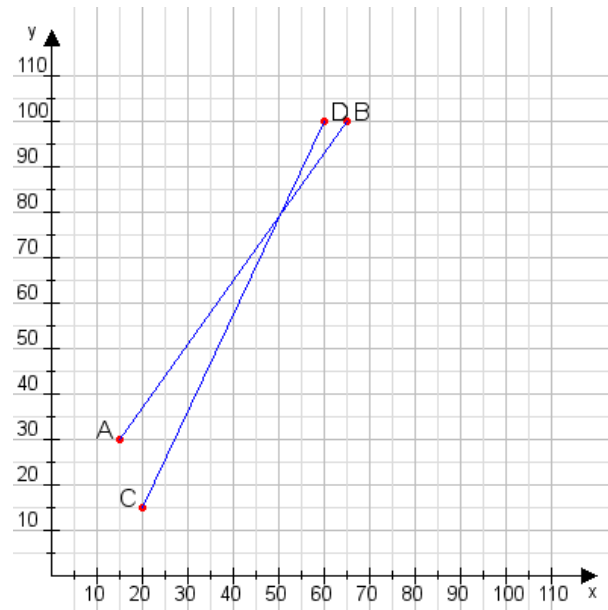
Aufgabe 2:

Zeichne den Punkt A(25|40) und den Punkt B(90|65) in das Koordinatensystem ein und verbinde beide Punkte miteinander. Verbinde die Eingetragenen Punkte C, D und ermittle deren Koordinaten.



Aufgabe 1:

C(20|15), D(60|100)



Aufgabe 2:

C(50|55), D(90|110)

