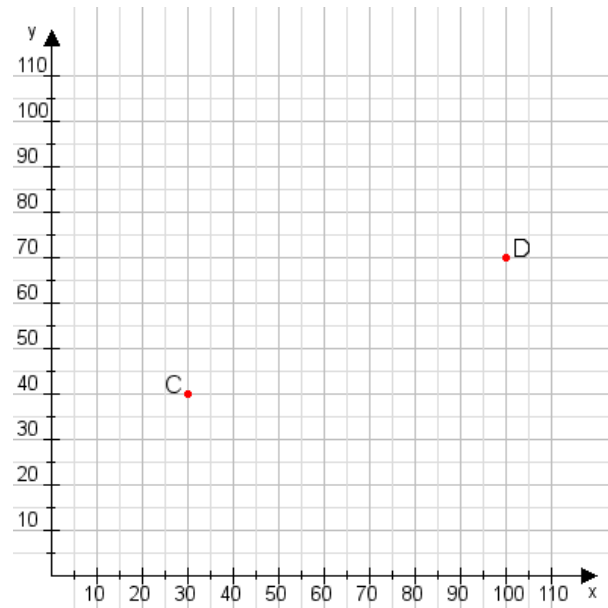


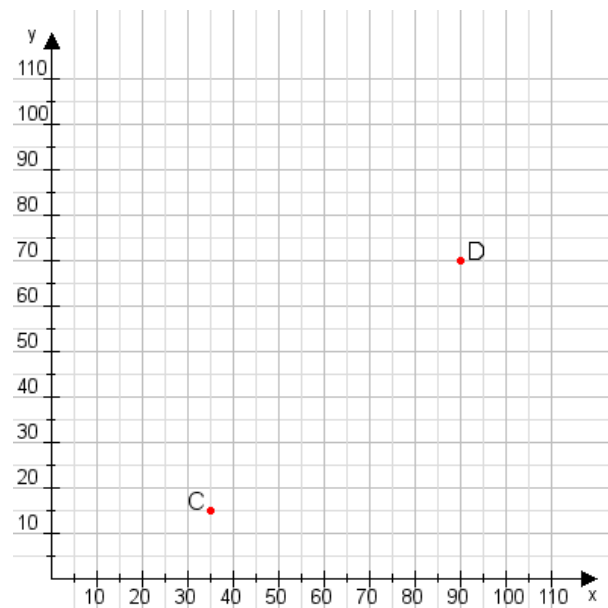
**Aufgabe 1:**

Zeichne den Punkt A(45|50) und den Punkt B(115|75) in das Koordinatensystem ein und verbinde beide Punkte miteinander. Verbinde die Eingetragenen Punkte C, D und ermittle deren Koordinaten.



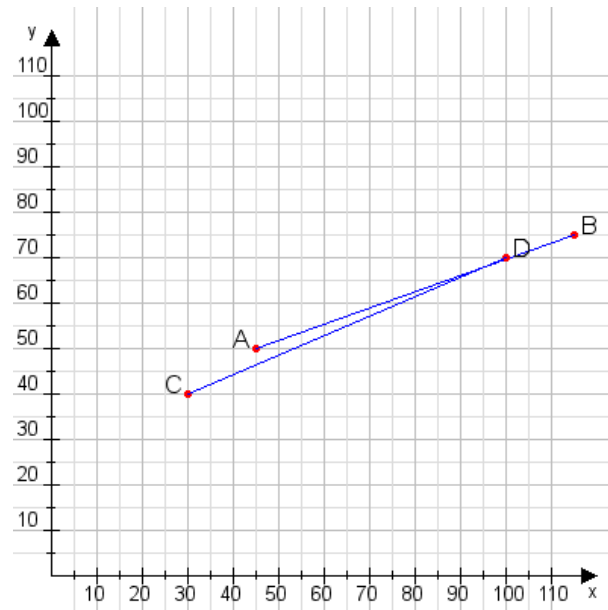
**Aufgabe 2:**

Zeichne den Punkt A(20|30) und den Punkt B(70|65) in das Koordinatensystem ein und verbinde beide Punkte miteinander. Verbinde die Eingetragenen Punkte C, D und ermittle deren Koordinaten.



**Aufgabe 1:**

**C(30|40), D(100|70)**



**Aufgabe 2:**

**C(35|15), D(90|70)**

