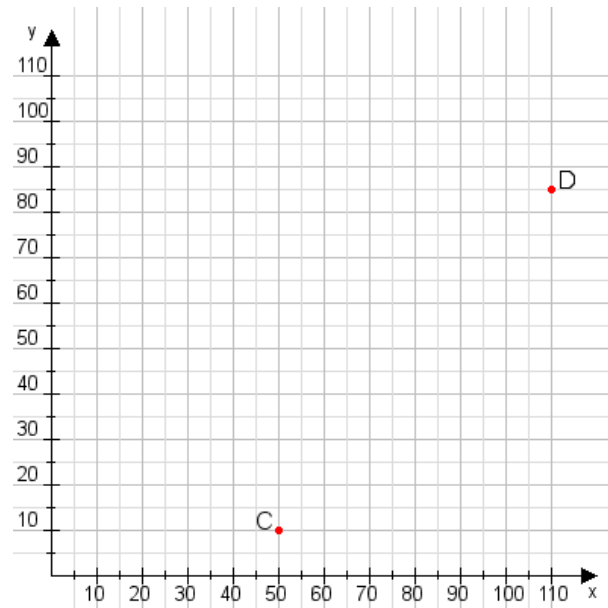


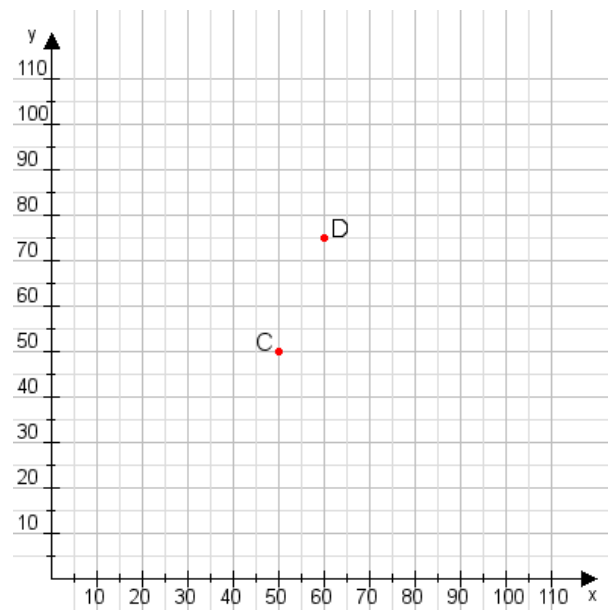
Aufgabe 1:

Zeichne den Punkt A(45|40) und den Punkt B(95|80) in das Koordinatensystem ein und verbinde beide Punkte miteinander. Verbinde die Eingetragenen Punkte C, D und ermittle deren Koordinaten.



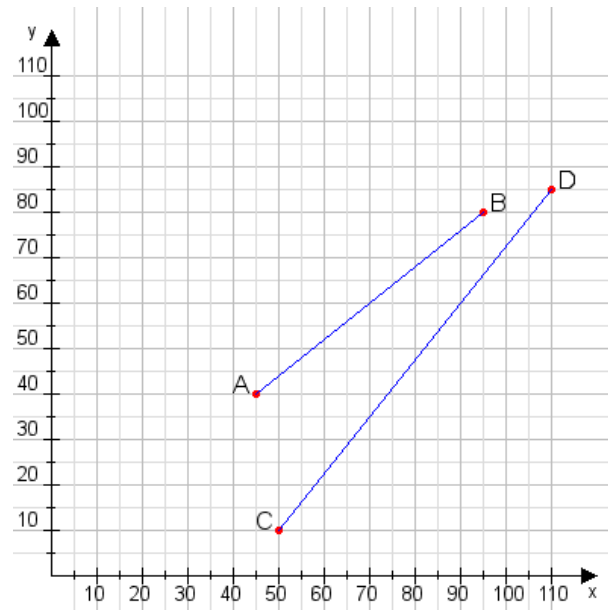
Aufgabe 2:

Zeichne den Punkt A(55|10) und den Punkt B(65|100) in das Koordinatensystem ein und verbinde beide Punkte miteinander. Verbinde die Eingetragenen Punkte C, D und ermittle deren Koordinaten.



Aufgabe 1:

C(50|10), D(110|85)



Aufgabe 2:

C(50|50), D(60|75)

