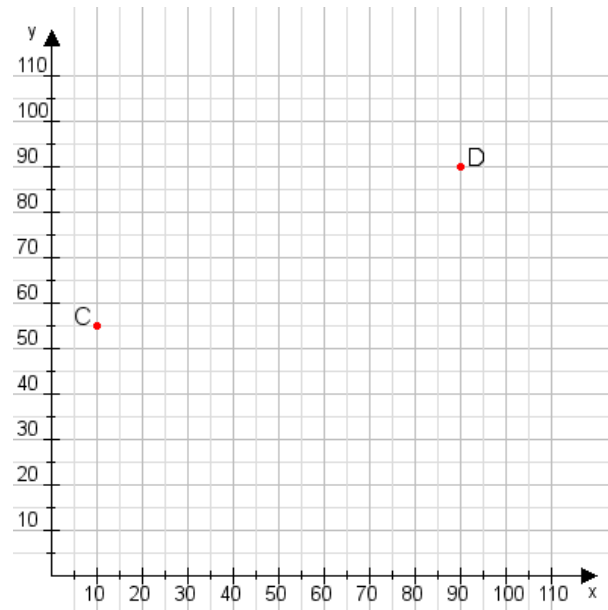


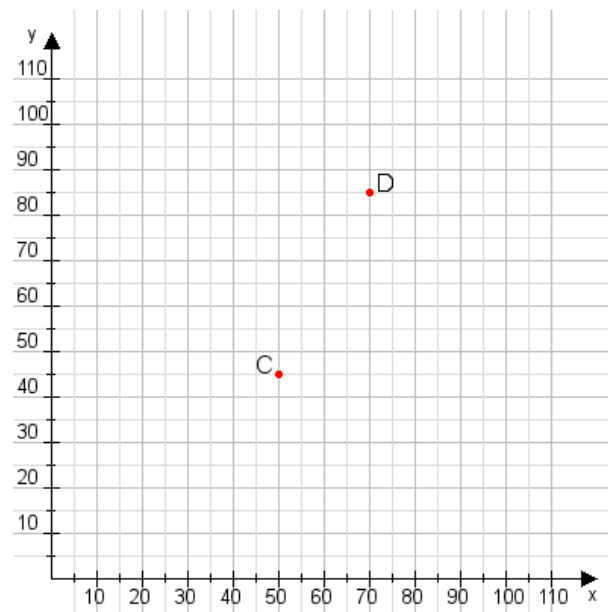
Aufgabe 1:

Zeichne den Punkt A(35|50) und den Punkt B(105|60) in das Koordinatensystem ein und verbinde beide Punkte miteinander. Verbinde die Eingetragenen Punkte C, D und ermittle deren Koordinaten.



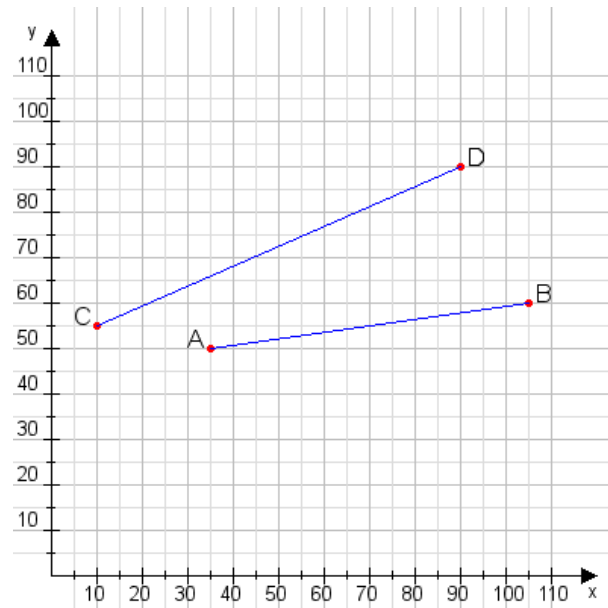
Aufgabe 2:

Zeichne den Punkt A(40|50) und den Punkt B(110|105) in das Koordinatensystem ein und verbinde beide Punkte miteinander. Verbinde die Eingetragenen Punkte C, D und ermittle deren Koordinaten.



Aufgabe 1:

C(10|55), D(90|90)



Aufgabe 2:

C(50|45), D(70|85)

